


عملی ریاضی

برائے جماعت دوم

ورک بک



این ڈبلیو ایف پی ٹیکسٹ بک بورڈ - پشاور



عملی ریاضی ورک بک

برائے جماعت دوم



این-ڈبلیو-ایف-پی ٹیکسٹ بک بورڈ، پشاور

ریاضی کا کورس تین کتابوں پر مشتمل ہے۔
1. درسی کتاب
2. ورک بک
3. رجسٹریں (صرف اساتذہ کے لیے)

یہ کتابیں نظامت تعلیم پرانہ صوبہ سرحد اور این-ڈبلیو-ایف-پی ٹیکسٹ بک بورڈ کے اشتراک سے تیار کی گئی ہیں۔

پہلا ایڈیشن 1999ء

جملہ حقوق بحق این-ڈبلیو-ایف-پی ٹیکسٹ بک بورڈ پشاور محفوظ ہیں

منظور کردہ وفاقی وزارت تعلیم اسلام آباد بطور نصابی کتاب برائے پرانہ صوبہ سرحد اور قبائلی علاقہ جات۔

مصنفین

قاضی فضل حق

سراج محمد

نثار محمد کی

نظر ثانی و ترتیب

برینڈا بین روز ایڈوائزر، میٹرل ڈیولپمنٹ
پروفیسر نصیر احمد ماہر مضمون، این-ڈبلیو-ایف-پی ٹیکسٹ بک بورڈ
وحیدہ ایاز اسسٹنٹ ڈائریکٹر، نظامت تعلیم پرانہ صوبہ سرحد
نگہت لون کوارڈینیٹر، میٹرل ڈیولپمنٹ

ڈیزائن اور لے آؤٹ

مہدی علی خان احمد مایار
ریاض راجس فضل ہادی
نیاز محمد

آرٹ ورک

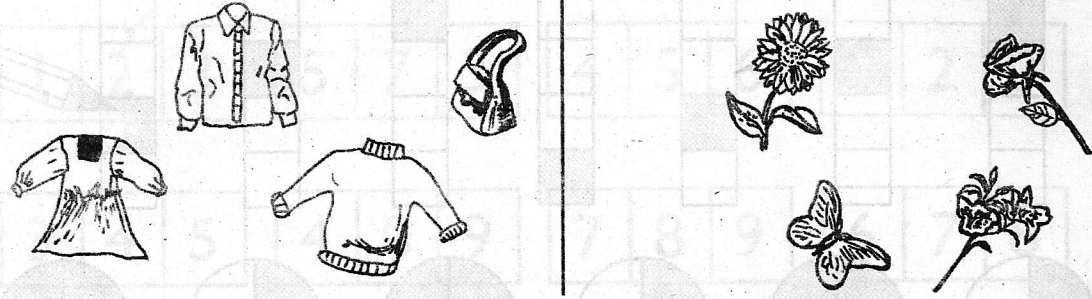
شریف بیروم

سرحد

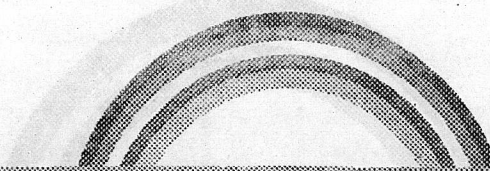




-اجد قریشی

پونٹ - 1 : اعداد - 99 تک

1- ایک گروپ سے تعلق رکھنے والی چیزوں کے گرد دائرہ لگائیں۔



2- کس کا تعلق گروپ سے نہیں؟ اس کے گرد دائرہ لگائیں۔



صفحہ	پونٹ
1 - 6	پونٹ : 1 اعداد - 99 تک
7 - 11	پونٹ : 2 جمع تفریق - 18 تک
12 - 16	پونٹ : 3 جمع تفریق بلا حاصل - 99 تک
17 - 19	پونٹ : 4 اشکال
20 - 22	پونٹ : 5 کسور
23 - 27	پونٹ : 6 جمع حاصل - 99 تک
28 - 32	پونٹ : 7 تفریق ادھار لے کر - 99 تک
33 - 36	پونٹ : 8 وقت
37 - 40	پونٹ : 9 دن اور مہینے
41 - 46	پونٹ : 10 ضرب
47 - 50	پونٹ : 11 تقسیم
51 - 54	پونٹ : 12 پیمائش
55 - 60	پونٹ : 13 تین ہندسی اعداد
61 - 65	پونٹ : 14 تین ہندسی اعداد کی جمع تفریق
66 - 68	پونٹ : 15 تصویری آراف
69 - 70	پونٹ : 16 بنیادی عوامل کا اعداد

1- کن گروپوں کے اعداد ترتیب میں ہیں؟ اُن پر (✓) لگائیں۔

1	2	3	5	7	3	4	5	6	8	2	0
---	---	---	---	---	---	---	---	---	---	---	---


3	4	5	4	0	9	7	8	9	6	7	8
---	---	---	---	---	---	---	---	---	---	---	---

2- درمیانی عدد لکھیں۔

7	8	9	5		7	4		6	8		10
---	---	---	---	--	---	---	--	---	---	--	----

3		5	4		6	6		8	2		4
---	--	---	---	--	---	---	--	---	---	--	---

3- خالی خانوں میں ہر لڑکے کا ترتیب کے لحاظ سے مقام لکھیں۔



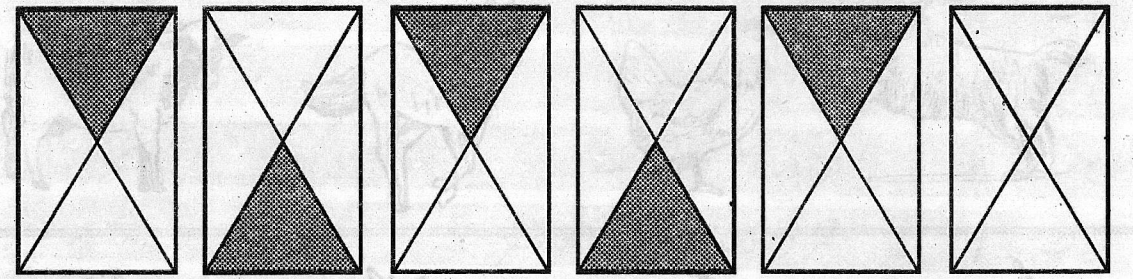
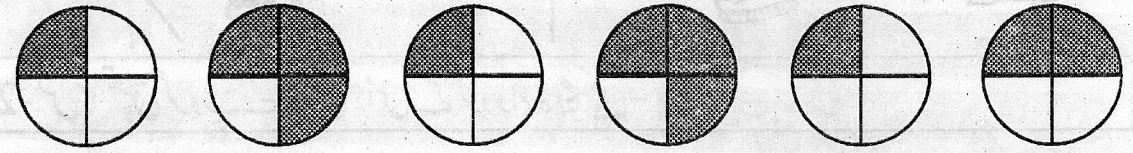



--	--	--	--	--	--	--	--	--

عملی ریاضی صفحہ 3, 4

3

آخری شکل میں تسلسل کے مطابق رنگ بھریں۔



عملی ریاضی صفحہ 2

2

1- بڑے عدد پر (✓) لگائیں۔

35	48	22	19	69	58	17	71
----	----	----	----	----	----	----	----

2- چھوٹے عدد کے گرد دائرہ لگائیں۔

69	96	44	42	69	53	14	40
----	----	----	----	----	----	----	----

3- سب سے بڑے عدد پر (✓) لگائیں۔

14	42	41	32	23	37	60	50	40	20	2	12
----	----	----	----	----	----	----	----	----	----	---	----









4- اگلا عدد لکھیں۔

9	14	33	46
---	----	----	----

5- پہلا عدد لکھیں۔

6	11	25	38
---	----	----	----

میل ملائیں۔


	0 اکائی 6 دہائیاں	
	1 اکائی 5 دہائیاں	
	8 اکائیاں 5 دہائیاں	
	4 اکائیاں 8 دہائیاں	
	4 اکائیاں 4 دہائیاں	
	3 اکائیاں 7 دہائیاں	
	7 اکائیاں 1 دہائی	
	6 اکائیاں 2 دہائیاں	

یونٹ - 2 : جمع تفریق - 18 تک

1- میل ملائیں۔



2- مثال کے مطابق حل کریں۔

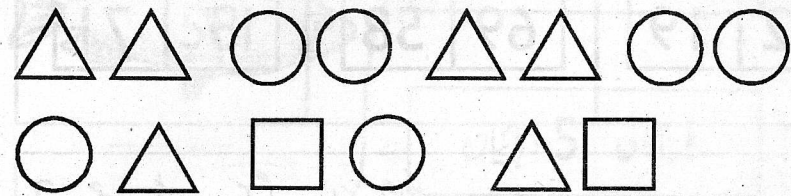


3- مثال کے مطابق درست جوابات کے گرد دائرہ لگائیں۔


9	$4 + 5$, $6 + 4$, $7 + 2$, $1 + 8$
12	$9 + 1$, $7 + 5$, $6 + 6$, $8 + 3$
10	$5 + 5$, $3 + 9$, $6 + 4$, $7 + 3$

جائزہ نمبر 1

شکل بنا کر تسلسل آگے بڑھائیں۔




2- میل ملائیں۔



چوتھا پہلا چھٹا پانچواں دوسرا تیسرا

3- اکائیاں اور دہائیاں گن کر عدد لکھیں۔



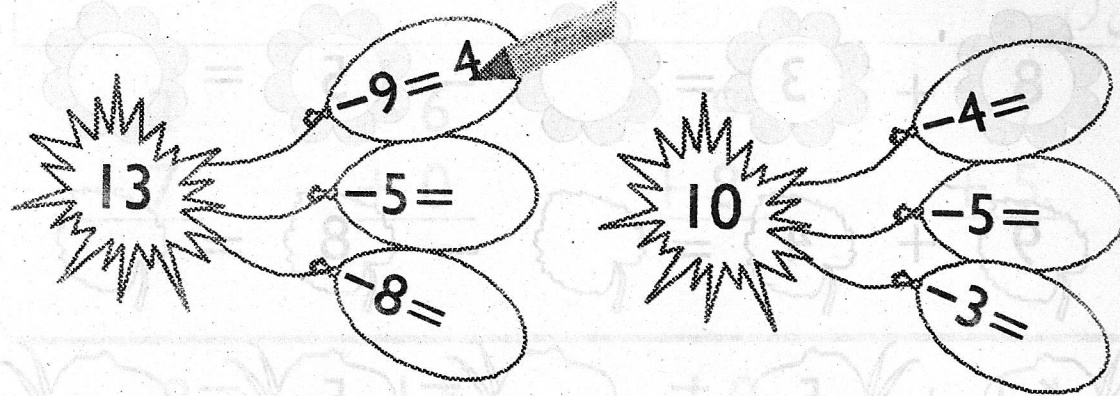
4- پہلا اگلا درمیانی عدد لکھیں۔

20		39		25		60
41		43		59		61

5- بڑے عدد پر (✓) لگائیں۔



1- حل کریں۔



$$14 - 9 = \text{balloon}$$

$$16 - 9 = \text{balloon}$$

$$9 - 5 = \text{balloon}$$

$$\begin{array}{r} 8 \\ -6 \\ \hline \end{array}$$

$$\begin{array}{r} 15 \\ -7 \\ \hline \end{array}$$

$$\begin{array}{r} 17 \\ -8 \\ \hline \end{array}$$

$$\begin{array}{r} 11 \\ -3 \\ \hline \end{array}$$

$$\begin{array}{r} 13 \\ -5 \\ \hline \end{array}$$

2- مثال کے مطابق درست جوابات کے گرد دائرہ لگائیں۔

9	$14 - 5$, $18 - 9$, $14 - 3$, $13 - 4$
8	$16 - 7$, $11 - 4$, $16 - 8$, $15 - 7$
7	$10 - 7$, $10 - 3$, $11 - 4$, $13 - 6$

1- حل کریں۔

$$\text{circle } 4 + \text{trapezoid } 1 = \text{circle } 5 + \text{trapezoid } 7 = \text{circle } 12$$

$$\text{circle } 2 + \text{trapezoid } 5 = \text{circle } + \text{trapezoid } 4 = \text{circle}$$

$$\text{circle } 6 + \text{trapezoid } 3 = \text{circle} + \text{trapezoid } 3 = \text{circle}$$

$$\text{circle } 3 + \text{trapezoid } 5 = \text{circle} + \text{trapezoid } 2 = \text{circle}$$

2- خالی جگہ پُر کریں۔

$$5 + \square = 12$$

$$6 + \square = 15$$

$$7 + \square = 11$$

$$8 + \square = 16$$

$$3 + \square = 12$$

$$7 + \square = 15$$

جائزہ نمبر 2

حل کریں۔

$$\begin{array}{r} 2 \\ + 7 \\ \hline \end{array} \quad \begin{array}{r} 6 \\ + 0 \\ \hline \end{array} \quad \begin{array}{r} 9 \\ + 8 \\ \hline \end{array} \quad \begin{array}{r} 7 \\ + 5 \\ \hline \end{array}$$

$$\begin{array}{r} 8 \\ - 4 \\ \hline \end{array} \quad \begin{array}{r} 15 \\ - 9 \\ \hline \end{array} \quad \begin{array}{r} 10 \\ - 5 \\ \hline \end{array} \quad \begin{array}{r} 14 \\ - 6 \\ \hline \end{array}$$

$$16 - 8 = \underline{\quad}, \quad 9 + 4 = \underline{\quad}, \quad 11 - 7 = \underline{\quad}$$

$$6 + 9 = \underline{\quad}, \quad 18 - 9 = \underline{\quad}, \quad 6 + 5 = \underline{\quad}$$

$$5 + \square = 9 \quad 6 + \square = 13 \quad 4 + \square = 10$$

* ریاضی کی کتاب کی قیمت 8 روپے ہے
کاپی کی قیمت 7 روپے ہے۔
دونوں کی کل قیمت بتائیں؟

روپے _____

* عادل کے پاس 12 روپے تھے۔
اس نے 9 روپے کا قلم خریدا۔
اس کے پاس کتنے روپے بچ گئے؟

روپے _____

جائزہ یونٹ - 2

11

حل کریں۔

$$8 + 3 = \text{flower} \quad - \quad 5 = \text{flower}$$

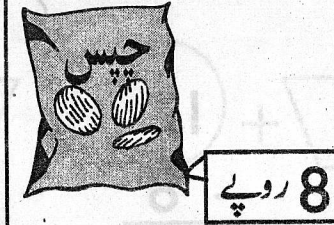
$$9 + 4 = \text{flower} \quad - \quad 8 = \text{flower}$$

$$6 + 5 = \text{flower} \quad - \quad 5 = \text{flower}$$

آپ کے پاس کل رقم؟



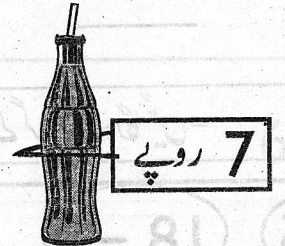
آپ نے خرچ کی۔



آپ کے پاس باقی بچ گئی۔

$$17 - 8 = \underline{\quad}$$

روپے _____



روپے _____




روپے _____

عملی ریاضی صفحہ 13

10

1- حل کریں۔



$$30 + 9 = \square$$

$$50 + 6 = \square$$

$$40 + 2 = \square$$

$$20 + 20 = \square$$

$$40 + 30 = \square$$

$$60 + 10 = \square$$

2- اگلی دہائی لکھیں۔

10, _____	50, _____	70, _____	30, _____
-----------	-----------	-----------	-----------

حل کریں۔

$$\begin{array}{r} 60 \\ + 34 \\ \hline \end{array}$$

$$\begin{array}{r} 93 \\ + 4 \\ \hline 97 \end{array}$$

$$\begin{array}{r} 76 \\ + 82 \\ \hline \end{array}$$

$$\begin{array}{r} 22 \\ + 17 \\ \hline \end{array}$$

$$\begin{array}{r} 51 \\ + 18 \\ \hline \end{array}$$

$$\begin{array}{r} 85 \\ + 17 \\ \hline \end{array}$$

$$\begin{array}{r} 34 \\ + 35 \\ \hline \end{array}$$

$$\begin{array}{r} 66 \\ + 11 \\ \hline \end{array}$$

$$\begin{array}{r} 61 \\ + 16 \\ \hline \end{array}$$

قادر کے پاس 42 روپے تھے۔

اس کے ابو نے اسے 5 روپے اور دیے۔

بتائیں اس کے پاس کل کتنے روپے ہو گئے؟

روپے _____

صائمہ کے پاس 24 مالٹے تھے۔

اُس نے 12 مالٹے اور خریدے۔

بتائیں اب اُس کے پاس کل

کتنے مالٹے ہیں؟

مالٹے _____

حل کریں اور جوابات کو ترتیب سے ملائیں۔

$$\begin{array}{r} 20 \\ +20 \\ \hline \end{array}$$

$$\begin{array}{r} 79 \\ -30 \\ \hline \end{array}$$

$$\begin{array}{r} 30 \\ +11 \\ \hline \end{array}$$

$$\begin{array}{r} 69 \\ -21 \\ \hline \end{array}$$

$$\begin{array}{r} 20 \\ +22 \\ \hline \end{array}$$

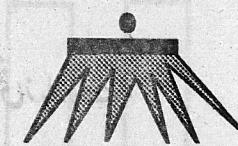
$$\begin{array}{r} 48 \\ -1 \\ \hline \end{array}$$

$$\begin{array}{r} 40 \\ +3 \\ \hline \end{array}$$

$$\begin{array}{r} 89 \\ -43 \\ \hline \end{array}$$

$$\begin{array}{r} 23 \\ +22 \\ \hline \end{array}$$

$$\begin{array}{r} 33 \\ +11 \\ \hline \end{array}$$



حل کریں۔

$$40 - 10 = \square$$

$$80 - 20 = \square$$

$$28 - 6 = \square$$

$$57 - 4 = \square$$

$$60 - 30 = \square$$

$$\begin{array}{r} 49 \\ -5 \\ \hline \end{array}$$

$$\begin{array}{r} 36 \\ -2 \\ \hline \end{array}$$

$$\begin{array}{r} 55 \\ -3 \\ \hline \end{array}$$

$$\begin{array}{r} 70 \\ -40 \\ \hline \end{array}$$

$$\begin{array}{r} 88 \\ -6 \\ \hline \end{array}$$


$$\begin{array}{r} 50 \\ -10 \\ \hline \end{array}$$

$$\begin{array}{r} 69 \\ -2 \\ \hline \end{array}$$


$$\begin{array}{r} 29 \\ -7 \\ \hline \end{array}$$

یونٹ - 4 : اشکال

1- میل ملائیں۔



2- کھلی اشکال پر (✓) اور بند اشکال پر (X) لگائیں۔



جائزہ نمبر 3


حل کریں۔

$$\begin{array}{r} 40 \\ + 8 \\ \hline \end{array} \quad \begin{array}{r} 70 \\ + 10 \\ \hline \end{array} \quad \begin{array}{r} 62 \\ + 35 \\ \hline \end{array} \quad \begin{array}{r} 50 \\ + 27 \\ \hline \end{array}$$

$$\begin{array}{r} 90 \\ - 20 \\ \hline \end{array} \quad \begin{array}{r} 86 \\ - 51 \\ \hline \end{array} \quad \begin{array}{r} 59 \\ - 2 \\ \hline \end{array} \quad \begin{array}{r} 77 \\ - 22 \\ \hline \end{array}$$

$$38 - 7 = \square \quad 67 + 2 = \square$$

$$80 - 10 = \square \quad 50 + 40 = \square$$

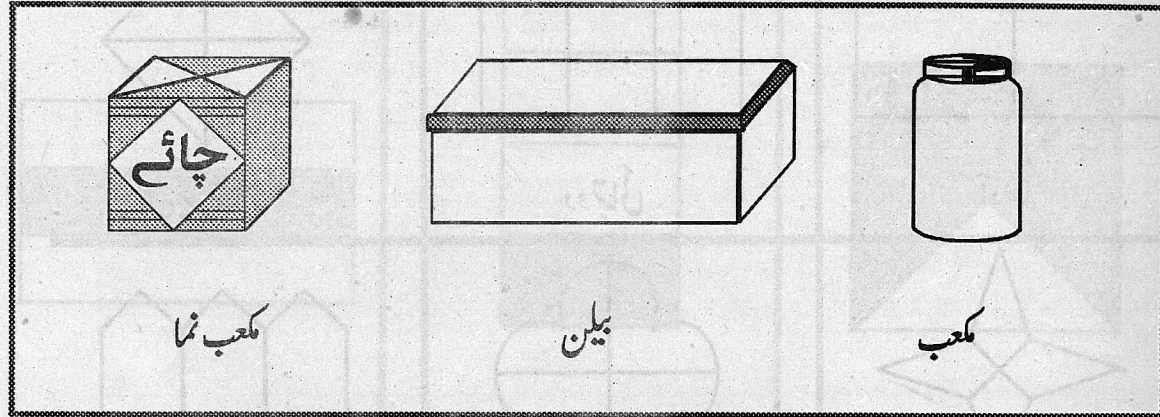
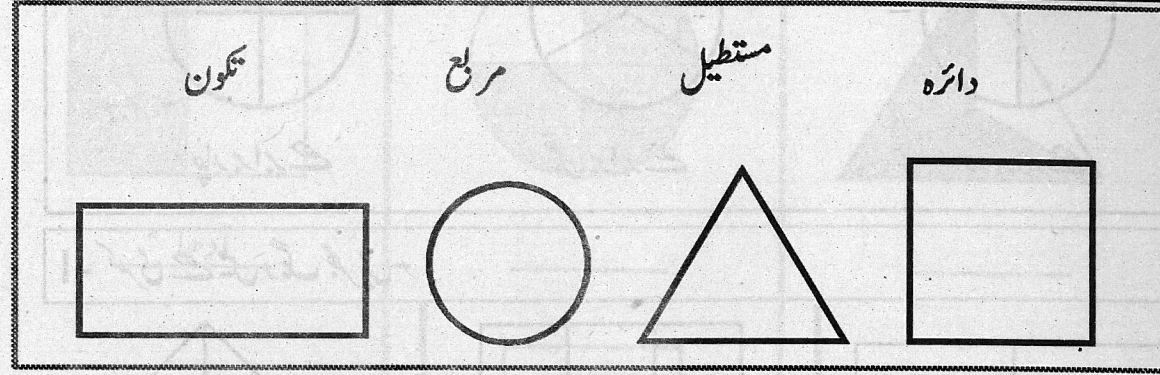


* تختی اور کاپی کی کل قیمت کیا ہے؟


* سلیٹ کی قیمت تختی کی قیمت سے کتنی زیادہ ہے؟

جائزہ نمبر 4


1- میل ملائیں۔




2- کھلی اشکال پر (✓) اور بند اشکال پر (X) لگائیں۔




1- بند اشکال کی سرحد پر پنسل پھیریں۔ اور اندرون میں رنگ بھریں۔




2- ہر گروپ کا تعلق کس شکل سے ہے؟ میل ملا کر ظاہر کریں۔






دو برابر حصے




تین برابر حصے




چار برابر حصے


۱- کسری حصے میں رنگ بھریں۔




آدھا




دو تہائی



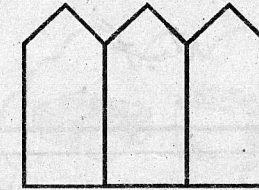
تین چوتھائی



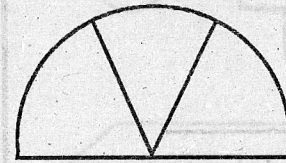
ایک چوتھائی



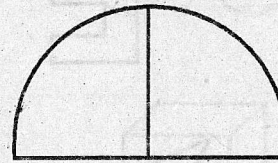
تین چوتھائی




دو تہائی



ایک تہائی




آدھا

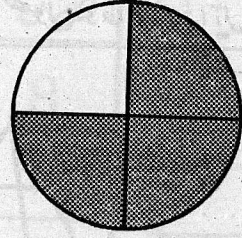


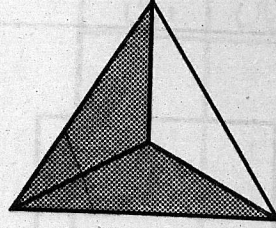
ایک چوتھائی


رنگ دار حصہ پوری شکل کا کون سا حصہ ہے؟





آدھا




















یونٹ - 6 : جمع با حاصل - 99 تک

1- حل کریں اور حاصل جمع کے ہر ہندسہ کی مقامی قیمت لکھیں۔

$$\begin{array}{r} 8 \\ + 7 \\ \hline \end{array} + \begin{array}{|c|c|} \hline \text{اکائیاں} & \text{دہائی} \\ \hline 8 & \\ \hline 7 & \\ \hline 1 & 5 \\ \hline \end{array}$$

دہائی _____ اکائیاں _____

$$\begin{array}{r} 7 \\ + 6 \\ \hline \end{array} + \begin{array}{|c|c|} \hline \text{اکائیاں} & \text{دہائی} \\ \hline & \\ \hline & \\ \hline & \\ \hline \end{array}$$

دہائی _____ اکائیاں _____

$$\begin{array}{r} 9 \\ + 7 \\ \hline \end{array} + \begin{array}{|c|c|} \hline \text{اکائیاں} & \text{دہائی} \\ \hline & \\ \hline & \\ \hline & \\ \hline \end{array}$$

دہائی _____ اکائیاں _____

$$\begin{array}{r} 6 \\ + 5 \\ \hline \end{array} + \begin{array}{|c|c|} \hline \text{اکائیاں} & \text{دہائی} \\ \hline & \\ \hline & \\ \hline & \\ \hline \end{array}$$

دہائی _____ اکائیاں _____

$$\begin{array}{r} 7 \\ + 7 \\ \hline \end{array} + \begin{array}{|c|c|} \hline \text{اکائیاں} & \text{دہائی} \\ \hline & \\ \hline & \\ \hline & \\ \hline \end{array}$$


دہائی _____ اکائیاں _____

$$\begin{array}{r} 4 \\ + 8 \\ \hline \end{array} + \begin{array}{|c|c|} \hline \text{اکائیاں} & \text{دہائی} \\ \hline & \\ \hline & \\ \hline & \\ \hline \end{array}$$


دہائی _____ اکائیاں _____

جائزہ نمبر 5

1- ان اشکال پر (✓) لگائیں جو برابر حصوں کو ظاہر کرتی ہیں۔



2- کسری حصے میں رنگ بھریں۔



ایک چوتھائی

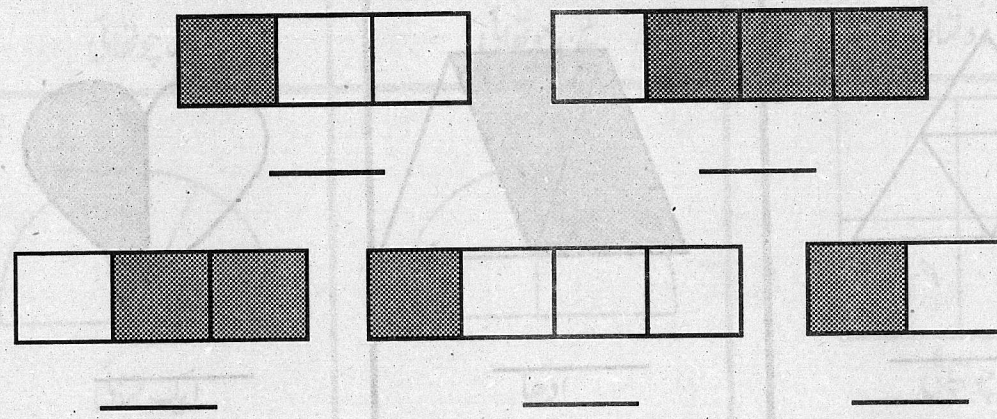
دو تہائی


تین چوتھائی

ایک تہائی

آدھا

3- رنگ دار حصہ کو ظاہر کرنے والی کسری لکھیں۔





رانی ایک خریدنا چاہتی ہے۔
کی قیمت 47 روپے ہے۔
عامر کے پاس 50 روپے ہیں۔
کیا وہ خرید سکتا ہے؟

اس کے پاس 10 روپے ہیں۔ کیا وہ خرید سکتی ہے؟

کاشف نے 17 روپے کی خریدی۔
اُس نے 5 روپے کا خریدا۔
اُس نے کتنی رقم خرچ کی؟

سنبل نے 25 روپے کی خریدی۔
اُس نے 15 روپے کی خریدی۔
بتائیں اُس نے کل کتنی رقم خرچ کی؟

حل کریں۔

$$\begin{array}{r} 4 \\ 5 \\ + 7 \\ \hline \end{array} \quad \begin{array}{r} 8 \\ 2 \\ + 4 \\ \hline \end{array} \quad \begin{array}{r} 6 \\ 6 \\ + 6 \\ \hline \end{array} \quad \begin{array}{r} 6 \\ 9 \\ + 4 \\ \hline \end{array} \quad \begin{array}{r} 5 \\ 2 \\ + 6 \\ \hline \end{array}$$

دہائیاں	اکائیاں	دہائیاں	اکائیاں	دہائیاں	اکائیاں	دہائیاں	اکائیاں
2	7	4	8	2	5	3	3
+	6	+	3	+	6	+	8

$$\begin{array}{r} 17 \\ + 6 \\ \hline \end{array} \quad \begin{array}{r} 37 \\ + 23 \\ \hline \end{array} \quad \begin{array}{r} 15 \\ + 39 \\ \hline \end{array} \quad \begin{array}{r} 26 \\ + 6 \\ \hline \end{array} \quad \begin{array}{r} 48 \\ + 29 \\ \hline \end{array}$$

جائزہ نمبر 6

حل کریں۔

$$\begin{array}{r} 67 \\ + 8 \\ \hline \end{array}$$

$$\begin{array}{r} 87 \\ + 5 \\ \hline \end{array}$$

$$\begin{array}{r} 46 \\ + 47 \\ \hline \end{array}$$

$$\begin{array}{r} 36 \\ + 14 \\ \hline \end{array}$$

$$\begin{array}{r} 4 \\ 3 \\ + 8 \\ \hline \end{array}$$

$$\begin{array}{r} 33 \\ 22 \\ + 22 \\ \hline \end{array}$$

$$\begin{array}{r} 60 \\ 21 \\ + 17 \\ \hline \end{array}$$

$$\begin{array}{r} 24 \\ 15 \\ + 50 \\ \hline \end{array}$$

☆ حمیدہ کے پاس 48 سرخ بٹن اور 36 نیلے بٹن ہیں۔

بتائیں اس کے پاس کل کتنے بٹن ہیں؟

☆ ایک ٹوکری میں 36 انڈے اور دوسری ٹوکری

میں 24 انڈے ہیں۔

بتائیں کل کتنے انڈے ہیں؟

حل کریں۔

$$\begin{array}{r} 12 \\ 23 \\ + 34 \\ \hline \end{array}$$

$$\begin{array}{r} 46 \\ 21 \\ + 20 \\ \hline \end{array}$$

$$\begin{array}{r} 12 \\ 23 \\ + 13 \\ \hline \end{array}$$

$$\begin{array}{r} 37 \\ + 7 \\ \hline \end{array}$$

$$\begin{array}{r} 28 \\ + 14 \\ \hline \end{array}$$

$$\begin{array}{r} 58 \\ + 34 \\ \hline \end{array}$$

$$\begin{array}{r} 67 \\ + 9 \\ \hline \end{array}$$

$$18 + 37$$



$$\begin{array}{r} 18 \\ 37 \\ \hline 55 \end{array}$$

$$15 + 46 = \square$$

$$\begin{array}{r} 15 \\ + 46 \\ \hline \end{array}$$

$$28 + 24 = \square$$

$$27 + 37 = \square$$

$$35 + 15 = \square$$

یونٹ - 7 : تفریق ادھار لے کر - 99 تک

15 اکائیاں → 3 دہائیاں

5 اکائیاں → 2 دہائیاں

1- ایک دہائی ادھار لیں اور اکائیوں میں جمع کریں۔

دہائیاں	اکائیاں	دہائیاں	اکائیاں	دہائیاں	اکائیاں	دہائیاں	اکائیاں
<input type="text"/>	<input type="text"/>	<input type="text"/>	<input type="text"/>	<input type="text"/>	<input type="text"/>	<input type="text"/>	<input type="text"/>
9	0	2	5	6	2	7	6

2- ایک دہائی ادھار لیں اور تفریق کریں۔

دہائیاں	اکائیاں	دہائیاں	اکائیاں	دہائیاں	اکائیاں	دہائیاں	اکائیاں
<input type="text"/>	<input type="text"/>	<input type="text"/>	<input type="text"/>	<input type="text"/>	<input type="text"/>	<input type="text"/>	<input type="text"/>
2	0	9	0	7	0	6	0
	6		8		9		5

ایک دہائی ادھار لیں اور تفریق کریں۔

دہائیاں	اکائیاں	دہائیاں	اکائیاں	دہائیاں	اکائیاں	دہائیاں	اکائیاں
<input type="text"/>	<input type="text"/>	<input type="text"/>	<input type="text"/>	<input type="text"/>	<input type="text"/>	<input type="text"/>	<input type="text"/>
5	6	7	2	5	7	9	3
	8		6		2		4

$$\begin{array}{r} 44 \\ 6 \\ \hline \end{array}$$

$$\begin{array}{r} 82 \\ 19 \\ \hline \end{array}$$

$$\begin{array}{r} 97 \\ 38 \\ \hline \end{array}$$

$$\begin{array}{r} 61 \\ 45 \\ \hline \end{array}$$

$$\begin{array}{r} 30 \\ 15 \\ \hline \end{array}$$

$$\begin{array}{r} 66 \\ 18 \\ \hline \end{array}$$

$$\begin{array}{r} 91 \\ 7 \\ \hline \end{array}$$

$$\begin{array}{r} 88 \\ 9 \\ \hline \end{array}$$

$$\begin{array}{r} 70 \\ 21 \\ \hline \end{array}$$

$$\begin{array}{r} 81 \\ 25 \\ \hline \end{array}$$



روٹیاں _____

نان بائی نے 46 روٹیاں پکائیں۔

29 روٹیاں بک گئیں۔

کتنی روٹیاں باقی بچ گئیں؟

حل کریں۔

کیا دہائی ادھار لینے کی ضرورت ہے؟

76 -28	59 -40	66 -19	42 -27
-----------	-----------	-----------	-----------

90 -34	84 -22	91 -15	60 -11	47 -18
-----------	-----------	-----------	-----------	-----------

ایک باغ میں سیبوں کے 27 اور آموں کے 9 درخت ہیں۔ بتائیں سیبوں کے درخت آموں کے درختوں سے کتنے زیادہ ہیں؟	جماعت اول میں 43 طلباء اور جماعت دوم میں 25 طلباء ہیں۔ بتائیں دونوں جماعتوں میں کل کتنے طلباء ہیں؟
سہلی نے 25 روپے کا آئینہ اور 44 روپے کا برش خریدا۔ بتائیں اس نے کل کتنی رقم خرچ کی؟	اکبر کے پاس 72 روپے تھے۔ اس نے 44 روپے کی ہاکی خریدی۔ بتائیں اس کے پاس کتنے روپے باقی بچے؟




ایاز کے پاس 23 سفید اور 14 کالی مرغیاں ہیں۔
بتائیں سفید مرغیاں کالی مرغیوں سے کتنی زیادہ ہیں؟

مریم کی مرغیوں نے 22 انڈے دیے۔
7 انڈے مہمانوں کے لیے اُبالے گئے۔
بتائیں کتنے انڈے باقی بچے؟


عمار کے ابو بازار سے 36 کیلے لائے۔
18 کیلے بچوں میں بانٹے۔
بتائیں کتنے کیلے باقی بچے؟

حمزہ نے 45 سیب اور 36 مالٹے خریدے۔
بتائیں سیب مالٹوں سے کتنے زیادہ تھے؟


وقت دیکھ کر خالی جگہیں پُر کریں۔




سونہیہ _____ بجے جاگتی ہے۔




وہ _____ بجے ناشتہ کرتی ہے۔



وہ _____ بجے سکول جاتی ہے۔



وہ _____ بجے سکول سے واپس آتی ہے۔



وہ دن کا کھانا _____ بجے کھاتی ہے۔

جائزہ نمبر 7

1- حل کریں۔

$$\begin{array}{r} 41 \\ - 7 \\ \hline \end{array}$$

$$\begin{array}{r} 60 \\ - 2 \\ \hline \end{array}$$

$$\begin{array}{r} 64 \\ - 8 \\ \hline \end{array}$$

$$\begin{array}{r} 42 \\ - 5 \\ \hline \end{array}$$

$$\begin{array}{r} 50 \\ - 22 \\ \hline \end{array}$$

$$\begin{array}{r} 82 \\ - 27 \\ \hline \end{array}$$

$$\begin{array}{r} 51 \\ - 35 \\ \hline \end{array}$$

$$\begin{array}{r} 78 \\ - 29 \\ \hline \end{array}$$

2- حل کریں اور جواب کی پڑتال کریں۔

$$\begin{array}{r} 56 \\ - 18 \\ \hline \end{array}$$

$$\begin{array}{r} \square \\ + 18 \\ \hline \end{array}$$

$$\begin{array}{r} 82 \\ - 55 \\ \hline \end{array}$$

$$\begin{array}{r} \square \\ + 55 \\ \hline \end{array}$$

1- منیر کے پاس 32 گولیاں تھیں۔ اُس سے 14 گولیاں گر گئیں۔

بتائیں اس کے پاس کتنی گولیاں باقی بچ گئیں؟

2- نسیم کے پاس 36 ٹکٹ تھے۔ اس نے 18 ٹکٹ اپنے دوست کو دیے۔

بتائیں اب اُس کے پاس کتنے ٹکٹ ہیں؟

نعیم کی کلاس کے پیریڈ کے اوقات

سوئیاں بنا کر ہر مضمون کے پیریڈ کے شروع ہونے کا وقت گھڑی پر ظاہر کریں۔

آٹھ بجے : اسلامیات

پونے نو بجے : ریاضی


ساڑھے نو بجے : انگریزی

سوا دس بجے : اُردو


گیارہ بجے : مطالعہ پاکستان

پونے بارہ بجے : سائنس


اسلامیات




ریاضی




انگریزی




اُردو




مطالعہ پاکستان




سائنس




میل ملائیں۔




ساڑھے گیارہ بجے




پونے تین بجے




چھ بجے




سوا نو بجے




پونے چار بجے



پونے آٹھ بجے



دس بجے



ساڑھے تین بجے

یونٹ - 9 : دن اور مہینے

1- اگلا دن لکھیں۔

ہفتہ	بدھ	پیر
اتوار	جمعہ	منگل

2- میل ملائیں۔

مارچ اپریل مئی فروری

پہلا دوسرا تیسرا چوتھا

جون اگست ستمبر




پانچواں چھٹا ساتواں آٹھواں

دسمبر نومبر اکتوبر ستمبر


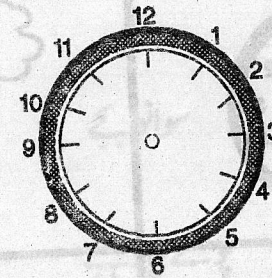

نواں دسواں گیارھواں بارھواں

جائزہ نمبر 8

1- وقت بتائیں۔



2- سوئیاں بنا کر دیا ہوا وقت ظاہر کریں۔



ساڑھے آٹھ بجے

پونے گیارہ بجے

سوا چار بجے

3- جواب لکھیں۔

1- ساڑھے نو بجے بڑی سوئی کس عدد پر ہوگی؟

ب- سوا چھ بجے بڑی سوئی کس عدد پر ہوگی؟

ج- پونے دو بجے بڑی سوئی کس عدد پر ہوگی؟

د- 11 بجے چھوٹی سوئی کس عدد پر ہوگی؟

ر- 1 بجے چھوٹی سوئی کس عدد پر ہوگی؟

یہ مہینہ کون سا ہے؟

اس مہینے کی تاریخیں کیلنڈر میں درج کریں۔

کیلنڈر

پیر					
منگل					
بدھ					
جمعرات					
جمعہ					
ہفتہ					
اتوار					

کیلنڈر کی مدد سے مندرجہ ذیل سوالوں کے جواب دیں۔

1- اس مہینے میں کتنے دن ہیں؟

2- 18 تاریخ کو ہفتے کا کون سا دن ہوگا؟

3- اس مہینے کے تیسرے منگل کو کیا تاریخ ہوگی؟

4- 27 تاریخ کو ہفتے کا کون سا دن ہوگا؟

5- اس مہینے میں کل کتنے اتوار ہیں؟

1- اگلے مہینے کا نام لکھیں۔

ربیع الاول

محرم

ذیقعدہ

شعبان

2- درمیانی مہینے کا نام لکھیں۔

رمضان

ذیقعدہ

صفر

ربیع الثانی

شوال

ذی الحجہ

جمادی الاول

رجب

3- مہینے کا نام لکھیں۔

1- اسلامی کیلنڈر کا پہلا مہینہ

2- اسلامی کیلنڈر کا آخری مہینہ

3- کس مہینے میں حج ادا کیا جاتا ہے؟

4- مسلمان کس مہینے میں روزے رکھتے ہیں؟


5- عید میلاد النبیؐ کس مہینے میں منائی جاتی ہے؟

یونٹ - 10 : ضرب

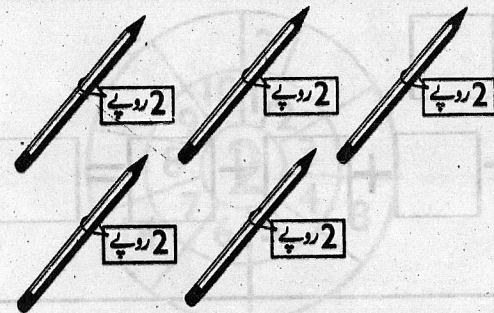
1- دو، دو کی گنتی کے لحاظ سے خالی خانے پُر کریں۔

2	4	6	8	10
12		16	18	
	24			30
		36		
			48	

2- جمع کے سوالات کی صورت میں لکھیں اور حل کریں۔



$2 + 2 + 2 = \square$



ایک پنسل کی قیمت 2 روپے ہے۔

ناہید نے 5 پنسلیں خریدیں۔

بتائیں اُس نے کل کتنی رقم خرچ کی؟

جائزہ نمبر 9

1- ہر دیے گئے مہینے سے اگلے مہینے کے گرد دائرہ لگائیں۔

ربیع الاول	جمادی الثانی - ربیع الثانی - محرم
رمضان	ذیقعدہ - ذی الحجہ - شوال
رجب	شعبان - صفر - جمادی الثانی

2- ہر دیے گئے مہینے سے پہلے مہینے کے گرد دائرہ لگائیں۔

دسمبر	نومبر - جنوری - ستمبر
اگست	اکتوبر - جولائی - جون
مارچ	اپریل - فروری - مئی

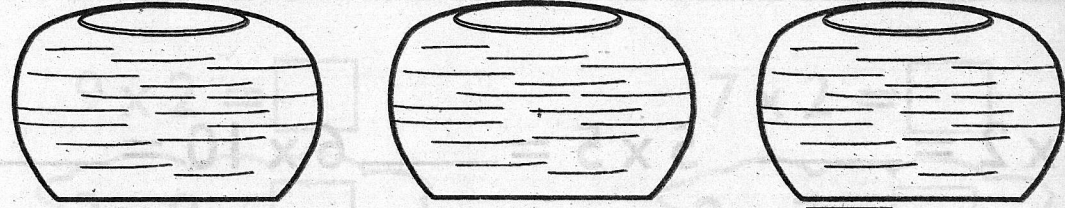
3- خالی جگہ پُر کریں۔

فروری سال کا _____ مہینہ ہے۔

جولائی سال کا _____ مہینہ ہے۔

دسمبر سال کا _____ مہینہ ہے۔

1- جمع کے سوال کے مطابق ہر پیالہ میں مچھلیاں بنائیں اور حل کریں۔



$$5 + 5 + 5 = \square$$

2- دیے گئے ضرب کے سوال کے مطابق ہر گنگلے میں پھول بنائیں اور حل کریں۔



$$5 \times 2 = \square$$



3- پہاڑا مکمل کریں۔

X	1	2	3	4	5	6	7	8	9	10
2	2			8			14			

X	1	2	3	4	5	6	7	8	9	10
5		10				30				50



1- جمع کے سوالات کو ضرب کی صورت میں لکھیں۔

$$2+2+2+2 = \square$$

$$2+2+2 = \square$$

$$4 \times 2 = \square$$

$$\square \times \square = \square$$

$$2+2+2+2+2 = \square$$

$$2+2 = \square$$

$$\square \times \square = \square$$

$$\square \times \square = \square$$

2- ضرب کے سوالات کو جمع کی صورت میں لکھیں۔

$$6 \times 2 = \square$$

$$\square + \square + \square + \square + \square + \square = \square$$

$$8 \times 2 = \square$$

$$\square + \square + \square + \square + \square + \square + \square + \square = \square$$

1- حل کریں۔

$9 \times 2 = \square$

$2 \times 9 = \square$

$6 \times 5 = \square$

$5 \times 6 = \square$

$7 \times 2 = \square$

$2 \times 7 = \square$






$8 \times 10 = \square$

$10 \times 8 = \square$

2- ضرب کے سوال کی صورت میں لکھیں اور حل کریں۔



$3 \times 2 = 6$



حل کریں۔

$6 \times 2 = \underline{\quad} \quad 5 \times 5 = \underline{\quad} \quad 6 \times 10 = \underline{\quad}$

$3 \times 2 = \underline{\quad} \quad 10 \times 5 = \underline{\quad} \quad 5 \times 2 = \underline{\quad}$

$$\begin{array}{r} 7 \\ \times 2 \\ \hline \end{array}$$

$$\begin{array}{r} 2 \\ \times 10 \\ \hline \end{array}$$

$$\begin{array}{r} 7 \\ \times 5 \\ \hline \end{array}$$

$$\begin{array}{r} 4 \\ \times 10 \\ \hline \end{array}$$

$$\begin{array}{r} 4 \\ \times 2 \\ \hline \end{array}$$

$$\begin{array}{r} 8 \\ \times 5 \\ \hline \end{array}$$

$$\begin{array}{r} 7 \\ \times 10 \\ \hline \end{array}$$

$$\begin{array}{r} 9 \\ \times 5 \\ \hline \end{array}$$

$$\begin{array}{r} 2 \\ \times 5 \\ \hline \end{array}$$

$$\begin{array}{r} 8 \\ \times 10 \\ \hline \end{array}$$

$$\begin{array}{r} 9 \\ \times 2 \\ \hline \end{array}$$

$$\begin{array}{r} 6 \\ \times 5 \\ \hline \end{array}$$

یونٹ-11 : تقسیم

1- حل کریں۔

8 چیزوں سے آپ دو دو کے کتنے گروپ بنا سکتے ہیں؟

$$8-2=\square-2=\square-2=\square-2=\square$$

$$8\div 2=\square$$

20 چیزوں سے آپ پانچ پانچ کے کتنے گروپ بنا سکتے ہیں؟

$$20-5=\square-5=\square-5=\square-5=\square$$


$$20\div 5=\square$$

30 چیزوں سے آپ دس دس کے کتنے گروپ بنا سکتے ہیں؟

$$30-10=\square-10=\square-10=\square$$

$$30\div 10=\square$$

5,5 کے گروپ بنائیں۔



کل کتنے گروپ بنے؟

جائزہ نمبر 10

1- خالی خانے پُر کریں۔

$$5+5+5=\square\times\square=\square$$

$$10+10=\square\times\square=\square$$

$$2+2+2+2=\square\times\square=\square$$

$$3\times 10=\square+\square+\square$$

$$4\times 5=\square+\square+\square+\square=\square$$

3- میل ملائیں۔

$$4\times 5 \quad 16$$

$$9\times 2 \quad 70$$

$$7\times 10 \quad 18$$

$$8\times 2 \quad 20$$

$$9\times 5 \quad 60$$

$$6\times 10 \quad 45$$

2- خالی خانے پُر کریں۔

$$5\times 10=\square$$

$$7\times 2=\square$$

$$3\times 5=\square$$

$$9\times 10=\square$$

$$8\times 5=\square$$

$$6\times 2=\square$$

4- کل انگلیوں کی تعداد لکھیں۔

5	4	3	2	1	ہاتھوں کی تعداد
				5	انگلیوں کی تعداد



1- پودے برابر تقسیم کر کے خالی خانے پُر کریں۔

پودوں کی تعداد	کیاریوں کی تعداد	تقسیم کا سوال	ہر کیاری میں پودوں کی تعداد
20	5	$20 \div 5$	4
18	2		
60	10		
40	5		
14	2		
30	10		

حل کریں۔



$$5 \times 2 = 10$$

$$10 \div 2 = 5$$



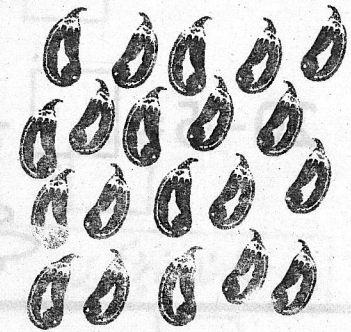
$$2 \times \square = \square$$

$$10 \div 5 = \square$$



$$3 \times 5 = \square$$

$$15 \div 5 = \square$$



$$4 \times 5 = \square$$

$$20 \div 5 = \square$$

$$6 \times 2 = \square$$

$$12 \div 2 = \square$$

$$9 \times 5 = \square$$

$$45 \div 5 = \square$$

$$9 \times 2 = \square$$

$$18 \div 2 = \square$$

$$5 \times 10 = \square$$

$$50 \div 10 = \square$$

$$8 \times 10 = \square$$

$$80 \div 10 = \square$$

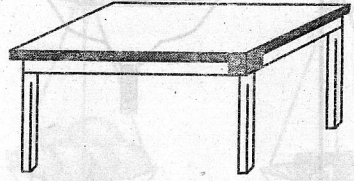
$$7 \times 5 = \square$$

$$35 \div 5 = \square$$


یونٹ-12 : پیمائش

1- کلاس کے اندر موجود اشیاء کو میٹر سے ناپیں اور لکھیں۔



1 میٹر سے زیادہ



1 میٹر کے برابر



1 میٹر سے کم



2- زبانی حل کریں اور جواب لکھیں۔

ایک کمرے کی لمبائی 8 میٹر اور دوسرے کمرے کی لمبائی 7 میٹر ہے۔
دونوں کمروں کی لمبائی کتنے میٹر ہے؟


میٹر _____

وحیدہ نے 20 میٹر اور نسیم نے 15 میٹر کپڑا خریدا۔
بتائیں وحیدہ نے نسیم سے کتنے میٹر زیادہ کپڑا خریدا؟

میٹر _____


جائزہ نمبر 11

1- اشکال کی مدد سے سوال حل کریں۔



$$4 \times 2 = \square$$

$$8 \div 2 = \square$$



$$3 \times 5 = \square$$

$$15 \div 5 = \square$$

2- حل کریں۔

$$6 \times 5 = \square$$

$$30 \div 5 = \square$$

$$7 \times 10 = \square$$

$$70 \div 10 = \square$$

3- حل کریں۔

$$20 \div 5 = \square$$

$$60 \div 10 = \square$$

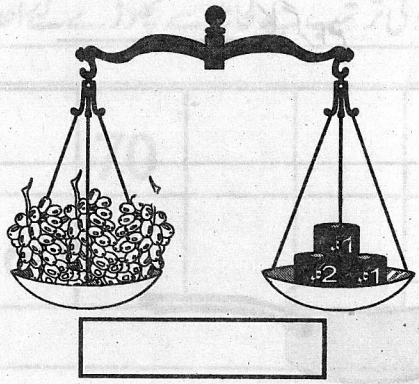
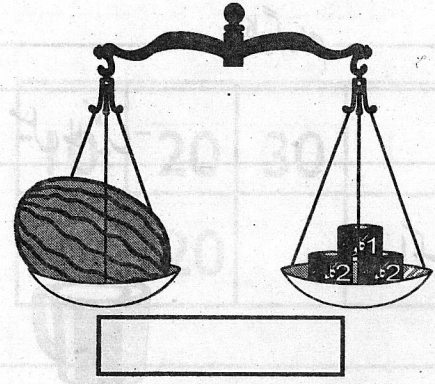
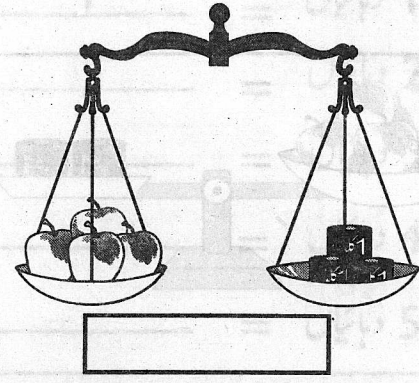
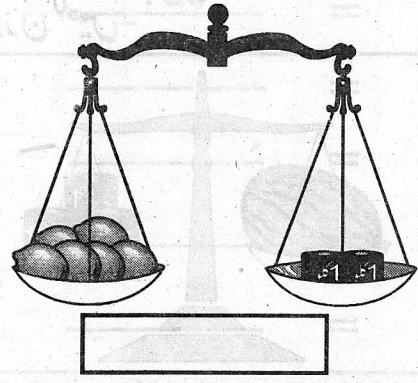
$$18 \div 2 = \square$$

$$14 \div 2 = \square$$

$$45 \div 5 = \square$$


$$80 \div 10 = \square$$

1- کل وزن لکھیں۔




2- حل کریں۔



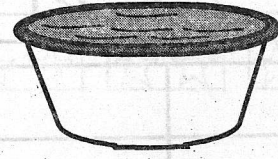
کریم نے 5 کلو سیب، 6 کلو امرود اور 3 کلو آم خریدے۔ بتائیں اس نے کل کتنے کلو پھل خریدے؟



عائشہ نے 17 کلو آٹا اور 5 کلو چینی خریدی۔ بتائیں اس نے کتنے کلو آٹا چینی سے زیادہ خریدے؟



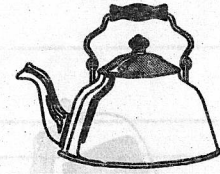
1- اندازہ لگا کر خالی جگہ میں "کم" یا "زیادہ" لکھیں۔



ایک لٹر سے _____

ایک لٹر سے _____

ایک لٹر سے _____



ایک لٹر سے _____

ایک لٹر سے _____

ایک لٹر سے _____

2- حل کریں۔

ایک ڈول میں 6 لٹر دودھ اور دوسرے ڈول میں 7 لٹر دودھ ہے۔ بتائیں دونوں ڈولوں میں کل کتنے لٹر دودھ ہے۔

_____ لٹر

اعجاز نے اپنی کار میں پہلے دن 16 لٹر پٹرول اور دوسرے دن 18 لٹر پٹرول ڈلوایا۔ بتائیں دو دنوں میں اس نے کل کتنے لٹر پٹرول ڈلوایا۔

_____ لٹر

یونٹ-13 : تین ہندسی اعداد

1- خالی جگہ پُر کریں۔

100	=	سینکڑے	_____	=	10	دہائیاں
_____	=	سینکڑے	_____	=	20	دہائیاں
_____	=	سینکڑے	_____	=	30	دہائیاں
_____	=	سینکڑے	_____	=	40	دہائیاں
_____	=	سینکڑے	_____	=	50	دہائیاں

2- دی ہوئی ترتیب کے لحاظ سے چھوڑے گئے اعداد لکھیں۔


10	20	30				70			
110	120				160				

3- عدد لکھیں۔


_____	=	160	سینکڑے	6	دہائیاں
_____	=	_____	سینکڑے	3	دہائیاں
_____	=	_____	سینکڑے	5	دہائیاں
_____	=	_____	سینکڑے	7	دہائیاں
_____	=	_____	سینکڑے	2	دہائیاں

جائزہ نمبر 12

1- وزن لکھیں۔




_____ کلوگرام



_____ کلوگرام

2- میل ملائیں۔




ایک لٹر سے زیادہ




ایک لٹر سے کم

3- میٹر کے پیمانے سے ناپیں اور کم یا زیادہ لکھیں۔



_____ ایک میٹر سے



_____ ایک میٹر سے

245 میں کون سا ہندسہ دہائی کے مقام پر ہے؟	572 میں کون سا ہندسہ اکائی کے مقام پر ہے؟
_____	<u>2</u>
417 میں کون سا ہندسہ اکائی کے مقام پر ہے؟	138 میں کون سا ہندسہ سینکڑے کے مقام پر ہے؟
_____	_____
347 میں کون سا ہندسہ سینکڑے کے مقام پر ہے؟	904 میں کون سا ہندسہ دہائی کے مقام پر ہے؟
_____	_____
640 میں کون سا ہندسہ دہائی کے مقام پر ہے؟	249 میں کون سا ہندسہ اکائی کے مقام پر ہے؟
_____	_____

عدد لکھیں۔

$$200 + 50 + 5 = \underline{\hspace{2cm}}$$


$$300 + 60 + 0 = \underline{\hspace{2cm}}$$

$$700 + 10 + 7 = \underline{\hspace{2cm}}$$

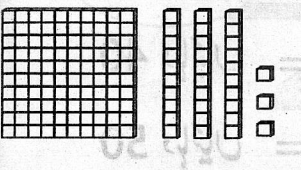
$$400 + 40 + 4 = \underline{\hspace{2cm}}$$

1- میل ملائیں۔


اکائیاں	دہائیاں	سینکڑے
3	3	1




اکائیاں	دہائیاں	سینکڑے
2	1	3




اکائیاں	دہائیاں	سینکڑے
5	0	2



اکائیاں	دہائیاں	سینکڑے
0	2	2



اکائیاں	دہائیاں	سینکڑے
7	4	1



2- میل ملائیں۔

ایک سو پانچ = 339

تین سو انتالیس = 876

چھ سو تریس = 653

آٹھ سو چھتر = 105

1- اعداد کی گھنٹی ہوئی ترتیب کے مطابق خالی خانے پُر کریں۔

300	299	298							291
290				286					282
	279			275					
270				266					
		258					253		251

2- چھوٹے عدد پر (✓) لگائیں۔

253, 352

645, 639

796, 791

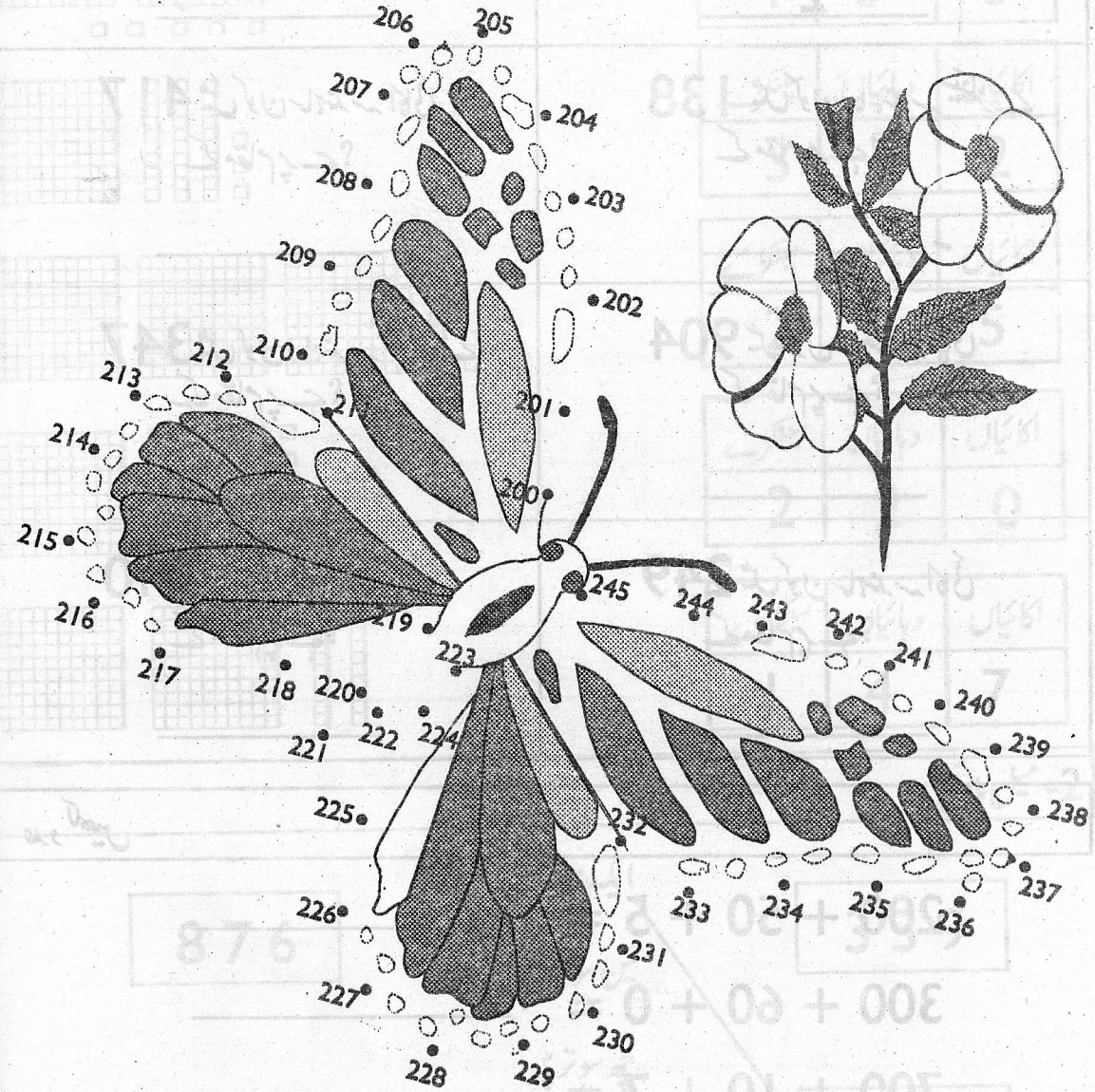
3- بڑے عدد پر (✓) لگائیں۔

451, 457

476, 674

605, 685

نقاط ملا کر تصویر مکمل کریں۔



یونٹ - 14 : تین ہندسی اعداد کی جمع تفریق

1- حل کریں۔

اکائیاں	دہائیاں	سینکڑے	اکائیاں	دہائیاں	سینکڑے	اکائیاں	دہائیاں	سینکڑے
6	4	1	1	2	6	8	3	4
4	2	3	5	1	3	6	2	3

$$\begin{array}{r} 514 \\ + 68 \\ \hline \end{array}$$

$$\begin{array}{r} 235 \\ + 43 \\ \hline \end{array}$$

$$\begin{array}{r} 808 \\ + 27 \\ \hline \end{array}$$

$$\begin{array}{r} 557 \\ + 36 \\ \hline \end{array}$$

$$\begin{array}{r} 354 \\ + 137 \\ \hline \end{array}$$

$$\begin{array}{r} 108 \\ + 252 \\ \hline \end{array}$$

$$\begin{array}{r} 308 \\ + 678 \\ \hline \end{array}$$

$$\begin{array}{r} 329 \\ + 431 \\ \hline \end{array}$$

$$\begin{array}{r} 336 \\ + 437 \\ \hline \end{array}$$

$$\begin{array}{r} 414 \\ + 204 \\ \hline \end{array}$$

$$\begin{array}{r} 377 \\ + 117 \\ \hline \end{array}$$

$$\begin{array}{r} 103 \\ + 641 \\ \hline \end{array}$$

جائزہ نمبر 13

1- نیچے دیے ہوئے اعداد کو ہندسوں میں لکھیں۔

اعداد الفاظ میں	اعداد ہندسوں میں
آٹھ سو دس	810
پانچ سو چھیاسٹھ	
چھ سو پینتالیس	
چار سو تیس	
دو سو اسی	

2- 367 میں کون سا ہندسہ دہائی کے مقام پر ہے؟

978 میں کون سا ہندسہ اکائی کے مقام پر ہے؟

512 میں کون سا ہندسہ سینکڑے کے مقام پر ہے؟

3- خالی خانوں میں اگلا پہلا درمیانہ عدد لکھیں۔

399,

600,

191

462,

464

279,

281

4- بڑے عدد پر (✓) لگائیں۔

247 742

669 578

799 801

حل کریں۔

اکائیاں	دہائیاں	سینکڑے
4	4	8
1	2	6

اکائیاں	دہائیاں	سینکڑے
0	4	9
5	2	

اکائیاں	دہائیاں	سینکڑے
3	8	8
8	3	4

$$\begin{array}{r} 595 \\ -342 \\ \hline \end{array}$$

$$\begin{array}{r} 647 \\ -429 \\ \hline \end{array}$$

$$\begin{array}{r} 986 \\ -542 \\ \hline \end{array}$$

$$\begin{array}{r} 435 \\ -109 \\ \hline \end{array}$$

$$\begin{array}{r} 964 \\ -345 \\ \hline \end{array}$$

$$\begin{array}{r} 580 \\ -321 \\ \hline \end{array}$$

$$\begin{array}{r} 233 \\ -102 \\ \hline \end{array}$$

$$\begin{array}{r} 693 \\ -46 \\ \hline \end{array}$$


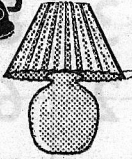










$$\begin{array}{r} 888 \\ -327 \\ \hline \end{array}$$

$$\begin{array}{r} 609 \\ -402 \\ \hline \end{array}$$

$$\begin{array}{r} 472 \\ -56 \\ \hline \end{array}$$

$$\begin{array}{r} 950 \\ -306 \\ \hline \end{array}$$

1- کل قیمت بتائیں۔

 165 روپے  225 روپے $\begin{array}{r} 165 \\ +225 \\ \hline \end{array}$	 175 روپے  108 روپے
 327 روپے  145 روپے 	 316 روپے  675 روپے
 420 روپے  45 روپے 	 175 روپے  218 روپے

2- حل کریں۔

$$\begin{array}{r} 685 \\ 101 \\ +202 \\ \hline \end{array}$$

$$\begin{array}{r} 111 \\ 423 \\ +333 \\ \hline \end{array}$$

$$\begin{array}{r} 291 \\ 202 \\ +504 \\ \hline \end{array}$$

$$\begin{array}{r} 441 \\ 320 \\ +105 \\ \hline \end{array}$$

جائزہ نمبر 14

حل کریں۔

$$\begin{array}{r} 465 \\ +509 \\ \hline \end{array}$$

$$\begin{array}{r} 208 \\ +350 \\ \hline \end{array}$$

$$\begin{array}{r} 143 \\ -127 \\ \hline \end{array}$$

$$\begin{array}{r} 409 \\ +253 \\ \hline \end{array}$$

$$\begin{array}{r} 516 \\ +267 \\ \hline \end{array}$$

$$\begin{array}{r} 253 \\ -121 \\ \hline \end{array}$$

$$\begin{array}{r} 763 \\ -536 \\ \hline \end{array}$$








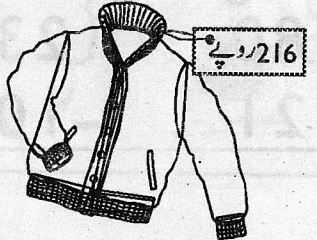


$$\begin{array}{r} 658 \\ -449 \\ \hline \end{array}$$

$$\begin{array}{r} 985 \\ -437 \\ \hline \end{array}$$

ایک باغ میں 145 سفید گلاب اور 137 سرخ گلاب کے پودے تھے۔
بتائیں باغ میں گلاب کے کل کتنے پودے تھے؟

اکبر کے پاس 830 روپے تھے اس نے 612 روپے
غریبوں میں تقسیم کیے۔

بتائیں اکبر کے پاس کتنے روپے باقی بچے؟

آپ کے پاس رقم	آپ نے خریداری کی	باقی رقم
	 <p>225 روپے</p>	
	 <p>528 روپے</p>	
	 <p>137 روپے</p>	
	 <p>216 روپے</p>	
	 <p>125 روپے</p>	

حل کریں۔

$$\begin{array}{r} 23 \\ + 18 \\ \hline \end{array} \quad \begin{array}{r} 47 \\ + 32 \\ \hline \end{array} \quad \begin{array}{r} 44 \\ + 8 \\ \hline \end{array} \quad \begin{array}{r} 45 \\ + 39 \\ \hline \end{array}$$

$$\begin{array}{r} 138 \\ + 215 \\ \hline \end{array} \quad \begin{array}{r} 127 \\ + 59 \\ \hline \end{array} \quad \begin{array}{r} 236 \\ + 329 \\ \hline \end{array} \quad \begin{array}{r} 358 \\ + 237 \\ \hline \end{array}$$



















$$\begin{array}{r} 41 \\ - 15 \\ \hline \end{array} \quad \begin{array}{r} 26 \\ - 8 \\ \hline \end{array} \quad \begin{array}{r} 98 \\ - 47 \\ \hline \end{array} \quad \begin{array}{r} 80 \\ - 15 \\ \hline \end{array}$$

$$\begin{array}{r} 250 \\ - 118 \\ \hline \end{array} \quad \begin{array}{r} 143 \\ - 26 \\ \hline \end{array} \quad \begin{array}{r} 264 \\ - 135 \\ \hline \end{array} \quad \begin{array}{r} 172 \\ - 54 \\ \hline \end{array}$$

$$\begin{array}{r} 243 \\ - 117 \\ \hline \end{array} \quad \begin{array}{r} 271 \\ - 129 \\ \hline \end{array} \quad \begin{array}{r} 871 \\ - 417 \\ \hline \end{array} \quad \begin{array}{r} 945 \\ - 416 \\ \hline \end{array}$$

جائزہ نمبر 15

ذیشان - ناصر - شاہین اور سلیم نے کتابیں پڑھنے کا مقابلہ کیا۔
تصویری گراف سے ظاہر ہوتا ہے کہ ہر بچے نے کتنی کتابیں پڑھیں۔

						ذیشان
						ناصر
						شاہین
						سلیم

تصویری گراف پڑھیں۔ اور درج ذیل سوالوں کے جواب دیں۔

1 - ذیشان نے کتنی کتابیں پڑھیں؟

2 - ناصر نے کتنی کتابیں پڑھیں؟

3 - شاہین نے کتنی کتابیں ناصر سے زیادہ پڑھیں؟

4 - سلیم نے کتنی کتابیں شاہین سے کم پڑھیں؟

5 - مقابلہ کون جیتا؟

حل کریں۔

$7 \times 5 = \underline{\quad} \quad 5 \times 10 = \underline{\quad} \quad 8 \times 2 = \underline{\quad}$

$3 \times 10 = \underline{\quad} \quad 7 \times 2 = \underline{\quad} \quad 9 \times 5 = \underline{\quad}$

$$\begin{array}{r} 4 \\ \times 2 \\ \hline \end{array}$$

$$\begin{array}{r} 5 \\ \times 5 \\ \hline \end{array}$$

$$\begin{array}{r} 8 \\ \times 10 \\ \hline \end{array}$$

$$\begin{array}{r} 1 \\ \times 5 \\ \hline \end{array}$$

$$\begin{array}{r} 2 \\ \times 2 \\ \hline \end{array}$$

$$\begin{array}{r} 8 \\ \times 5 \\ \hline \end{array}$$

$$\begin{array}{r} 7 \\ \times 10 \\ \hline \end{array}$$

$$\begin{array}{r} 3 \\ \times 2 \\ \hline \end{array}$$

$4 \div 2 = \underline{\quad} \quad 25 \div 5 = \underline{\quad} \quad 70 \div 10 = \underline{\quad}$

$40 \div 5 = \underline{\quad} \quad 90 \div 10 = \underline{\quad} \quad 4 \div 2 = \underline{\quad}$

$20 \div 10 = \underline{\quad} \quad 14 \div 2 = \underline{\quad} \quad 5 \div 5 = \underline{\quad}$

$12 \div 2 = \underline{\quad} \quad 45 \div 5 = \underline{\quad} \quad 40 \div 10 = \underline{\quad}$

قومی ترانہ

پاک سر زمین شاد باد . کشورِ حسین شاد باد
تو نشانِ غمِ عالی شان ارضِ پاکستان
مرکزِ یقین شاد باد
پاک سر زمین کا نظام قوتِ انخت عوام
قوم، ملک، سلطنت پائندہ تابندہ باد
شاد باد منزلِ مُراد
پرچمِ ستارہ و ہلال زہبرِ ترقی و کمال
ترجمانِ ماضی شانِ حال جانِ استقبال
سایۂ خدائے ذوالجلال

8587

سیریل نمبر

کوڈ نمبر

BP/DU-22-M12

تعداد

1,85000

قیمت

9.75

مطبع

حاجی سنز پرنٹرز