

عملی ریاضی

برائے جماعت اول



این ڈبلیو ایف پی ٹیکسٹ بک بورڈ، پشاور

فہرست

باب نمبر	عنوان	صفحہ نمبر
1	صفر سے نو تک اعداد کا تصور (اعادہ)	1 تا 5
2	ایک ہندی اعداد کی جمع و تفریق (اعادہ)	6 تا 8
3	جائزہ نمبر 1 عددی شعاع کا تصور	9 تا 10
4	ایک ہندی اعداد کی جمع و تفریق (مزید مشق)	11 تا 12
5	عدد دس (10) کا تصور	13 تا 19
6	جائزہ نمبر 2 11 سے 19 تک اعداد کا تصور	20 تا 27
7	جائزہ نمبر 3 دو ہندی اور ایک ہندی اعداد کی جمع بلا حاصل جبکہ مجموعہ 19 تک ہو	28 تا 29
8	عددی کہانیاں	30
9	پاکستانی نوٹوں کی کل مالیت اور جمع و تفریق	31
10	دو ہندی اور ایک ہندی اعداد کی جمع و تفریق (بلا حاصل)	32 تا 33
11	جائزہ نمبر 4 وقت کا تصور (گھنٹوں میں)	34 تا 35
12	20 سے 29 تک اعداد کا تصور اور جمع و تفریق بلا حاصل	36 تا 39
13	30 سے 39 تک اعداد کا تصور اور جمع و تفریق بلا حاصل	40 تا 43
14	جائزہ نمبر 5 اشکال کی پہچان	44 تا 45
15	اشکال کا اندرون اور بیرون (اندر اور باہر کا تصور)	46

عملی ریاضی

جملہ حقوق بحق این۔ ڈبلیو۔ ایف۔ پی۔ ٹیکسٹ بک بورڈ محفوظ ہیں۔
منظور کردہ وفاقی وزارت تعلیم بمطابق چھٹی نمبر F. 1-5 / 93 - Maths

مصنفین

فضل حق - سراج محمد - نثار محمد برکی - ایاز خان -
مسز شاہدہ بانو - مسز تسنیم حفیظ - مسز نگت لون

کتاب ہذا :-



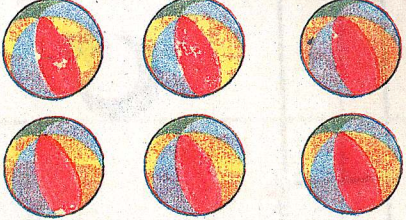













نظامت تعلیم پرائمری صوبہ سرحد

این۔ ڈبلیو۔ ایف۔ پی۔ ٹیکسٹ بک بورڈ

پاک جرمن ادارہ برائے تکنیکی تعاون










کے اشراک سے تیار کی گئی ہے۔

بہ خانے میں تصویروں کی تعداد کے لحاظ سے درست عدد کے گرد دائرہ لگائیں

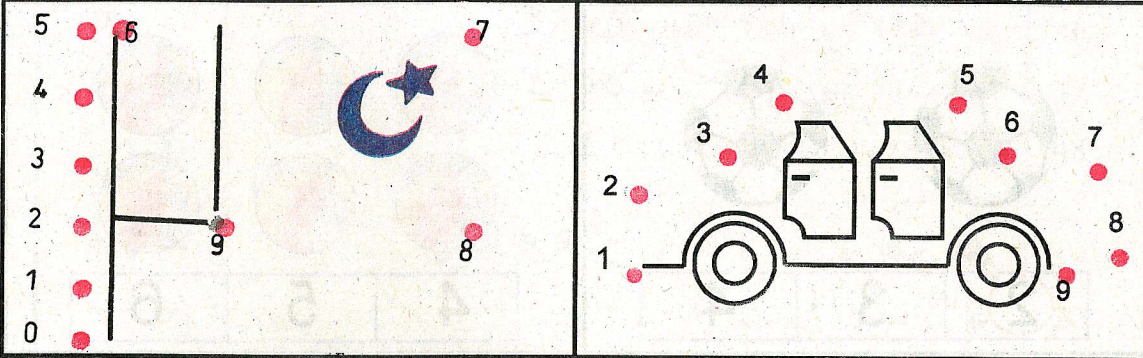
صفحہ نمبر	عنوان	باب نمبر
47 تا 48	40 سے 49 تک اعداد کا تصور اور جمع و تفریق بلا حاصل	16
49 تا 54	50 سے 59 تک اعداد کا تصور اور جمع و تفریق بلا حاصل	17
55	پاکستانی نوٹوں کی کل مالیت اور جمع و تفریق	18
56	جائزہ نمبر 6	
57 تا 59	60 سے 79 تک اعداد کا تصور اور جمع و تفریق بلا حاصل	19
60 تا 61	پیمائش اور حجم کا غیر رسمی تصور	20
62 تا 63	ہفتے کے دنوں کے نام	21
64	جائزہ نمبر 7	
65 تا 66	80 سے 89 تک اعداد کا تصور اور جمع و تفریق بلا حاصل	22
67 تا 68	90 سے 100 تک اعداد کا تصور	23
69	دہائیوں کا تصور	24
70	دہائیوں کی جمع	25
71 تا 73	دو ہندی اعداد کی جمع و تفریق بلا حاصل اور اعداد کا مقابلہ	26
74	جائزہ نمبر 8	
75 تا 76	دہائیوں اور اکائیوں کی جمع اور پیمائش کی کل مالیت	27
77	پاکستانی سکوں کی پہچان	28
78	جمع و تفریق کے متفرق سوالات	29
79 تا 82	کسر کا تصور (آدھا اور چوتھائی)	30
83	جائزہ نمبر 9	
84 تا 86	عددی پٹی اور عددی شعاع کی مدد سے جمع و تفریق	31
87 تا 88	جمع و تفریق (بلا حاصل) متفرق سوالات	32
89	عبارتی سوالات (جمع و تفریق)	33
90	جائزہ نمبر 10	

ہر قطار میں چیزوں کی تعداد کو گن کر سامنے دیے ہوئے خالی خانے میں درست عدد سے ظاہر کریں

	1
	
	
	
	
	
	
	
	

3

اعداد کو ترتیب سے ملا کر اشکال مکمل کریں۔

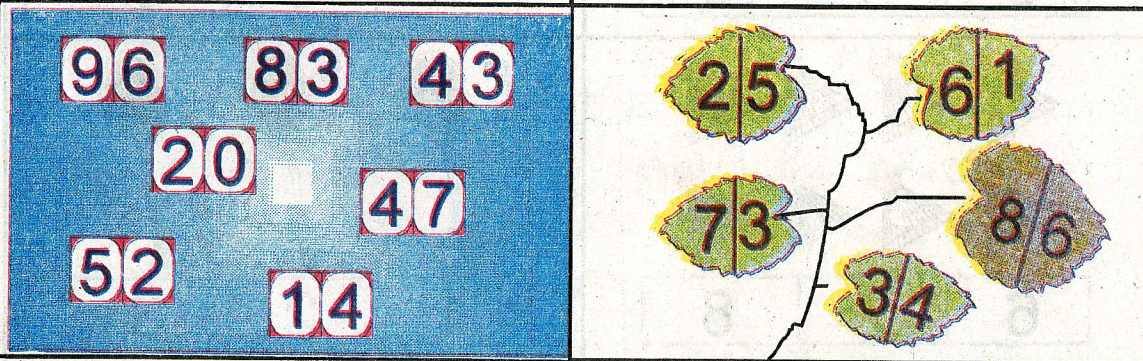


مثال کو دیکھ کر ہر خانے میں زیادہ چیزوں کے گرد دائرہ لگائیں



چھوٹے عدد پر (x) کا نشان لگائیں۔

بڑے عدد پر (x) کا نشان لگائیں۔



2

اعداد کی ترتیب سمجھ کر (بائیں سے دائیں) خالی خانے پُر کیجئے

4 5

		6		0		2
	8		4		6	
		3		4		
7	8			0		
	2			5		

1 2 5

4			7		9
---	--	--	---	--	---

0 3

5

ہر قطار میں چیزوں کی تعداد کو گن کر سامنے دیے ہوئے ہر خالی خانے میں درست عدد سے ظاہر کریں





	7	7	7	7	7

4



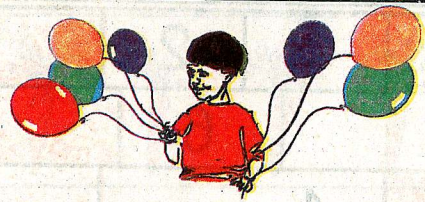

جمع کریں

$2 + 5 =$	$7 + 1 =$	$6 + 3 =$	$\begin{array}{r} 4 \\ + 4 \\ \hline \end{array}$
$5 + 2 =$	$1 + 7 =$	$3 + 6 =$	
$1 + 4 =$	$3 + 0 =$	$6 + 2 =$	$\begin{array}{r} 3 \\ + 3 \\ \hline \end{array}$
$4 + 1 =$	$0 + 3 =$	$2 + 6 =$	





حل کریں

	$3 + 2 = \square$		$5 + 1 = \square$
	$2 + 3 = \square$		$1 + 5 = \square$
	$5 - 2 = \square$		$6 - 1 = \square$
	$5 - 3 = \square$		$6 - 5 = \square$
	$4 + 3 = \square$		$7 + 2 = \square$
	$3 + 4 = \square$		$2 + 7 = \square$
	$7 - 3 = \square$		$9 - 2 = \square$
	$7 - 4 = \square$		$9 - 7 = \square$









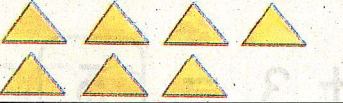
جمع کریں

	$3 + 2 = \square$		$2 + 1 = \square$
	$4 + 3 = \square$		$4 + 4 = \square$

تفریق کریں

	$4 - 3 = \square$		$5 - 2 = \square$
	$5 - 1 = \square$		$9 - 3 = \square$

ہر خانے میں اشکال گنیں اور تعداد کو درست عدد سے ملائیں۔

	0	
	1	
	2	
	3	
	4	
	5	
	6	
	7	
	8	
	9	

خالی خانوں میں اعداد ترتیب سے لکھیں۔

1	3	5		
	3	6		
	2		5	

حل کریں









$$\begin{array}{r} 6 \\ + 3 \\ \hline \end{array}$$

$$\begin{array}{r} 9 \\ - 3 \\ \hline \end{array}$$









$$7 + 2 = \square$$

$$8 - 4 = \square$$

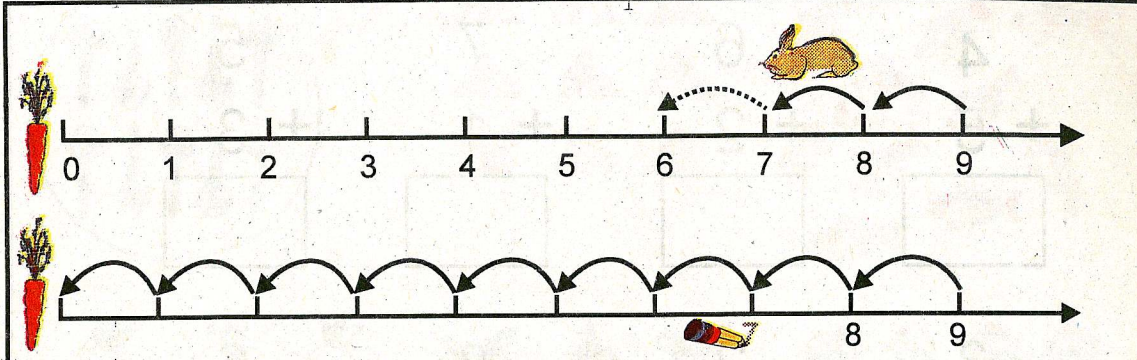
پاکستانی نوٹ

		
 2 روپے	 1 روپیہ	 4 روپے
 3 روپے	 5 روپے	

کل قیمت بتائیں

 4 روپے	+	 1 روپیہ	=	روپے
 روپے	+	 روپے	=	روپے
 روپے	+	 روپے	=	روپے
 روپے	+	 روپے	=	روپے

پہلی شعاع پر مثال کے مطابق الٹی تو سیں لگائیں دوسری شعاع پر گھٹتی ہوتی ترتیب میں گنتی لکھیں۔



عددی شعاع کی مدد سے سوال حل کریں۔

$$6 - 4 = \square$$


$$8 - 3 = \square$$

$$9 - 5 = \square$$

$$5 - 2 = \square$$

$$7 - 6 = \square$$

پہلی عددی شعاع پر اعداد کے لحاظ سے تو سیں بنائیں اور دوسری شعاع پر قوسوں کے لحاظ سے اعداد لکھیں



عددی شعاع کی مدد سے سوال حل کریں۔

$$2 + 3 = \square$$


$$4 + 2 = \square$$

$$6 + 3 = \square$$


$$7 + 1 = \square$$

$$3 + 5 = \square$$

دس اشیاء کے گرد دائرہ لگائیں



دس اشیاء کے گروپ کو عدد 10 سے ملائیں



حل کریں






4	6	7	5
+ 5	+ 2	+ 1	+ 3
<input type="text"/>	<input type="text"/>	<input type="text"/>	<input type="text"/>

3	2	8	6
+ 4	+ 2	+ 1	+ 3
<input type="text"/>	<input type="text"/>	<input type="text"/>	<input type="text"/>


9	4	5	7
- 5	- 1	- 4	- 5
<input type="text"/>	<input type="text"/>	<input type="text"/>	<input type="text"/>


8	6	4	3
- 7	- 3	- 2	- 0
<input type="text"/>	<input type="text"/>	<input type="text"/>	<input type="text"/>

نقاط کو ملا کر عدد 10 مکمل کریں۔ اور عدد 10 لکھیں۔


				
10	10			


دیئے گئے عدد کے مطابق اشیاء کے گروپ کو مکمل کریں






10































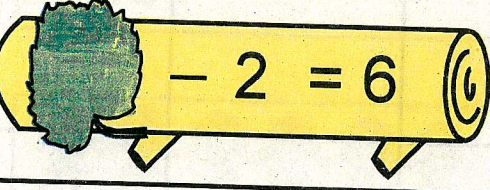

عدد 10 کے گرد دائرہ لگائیں




ہر گروپ میں درختوں کی تعداد لکھ کر سوال حل کریں

		$4 + 6 = 10$
		$6 + 4 = 10$
		$\square + \square =$
		$\square + \square =$
		$\square + \square =$
		$\square + \square =$
		$\square + \square =$
		$\square + \square =$
		$\square + \square =$
		$\square + \square =$
		$\square + \square =$
		$\square + \square =$







حل کریں

	$+ 3 = 7$		$5 + \square = 8$
	$- 2 = 6$		$9 - \square = 1$

حل کریں










$\begin{array}{r} 8 \\ + \square \\ \hline 9 \end{array}$	$\begin{array}{r} \square \\ + 2 \\ \hline 8 \end{array}$	$\begin{array}{r} 3 \\ + \square \\ \hline 6 \end{array}$	$\begin{array}{r} 5 \\ + \square \\ \hline 9 \end{array}$	$\begin{array}{r} \square \\ + 1 \\ \hline 3 \end{array}$
$\begin{array}{r} 6 \\ - \square \\ \hline 5 \end{array}$	$\begin{array}{r} \square \\ - 4 \\ \hline 4 \end{array}$	$\begin{array}{r} \square \\ - 3 \\ \hline 2 \end{array}$	$\begin{array}{r} 8 \\ - \square \\ \hline 3 \end{array}$	$\begin{array}{r} 2 \\ - \square \\ \hline 1 \end{array}$
$2 + \square = 4$			$2 - \square = 1$	
$\square + 5 = 7$			$\square - 1 = 4$	

ہر کالم میں دس اشکال مکمل کر کے سوال حل کریں

					
$\begin{array}{r} 5 \\ + 5 \\ \hline \end{array}$	$\begin{array}{r} 8 \\ + \square \\ \hline \end{array}$	$\begin{array}{r} 6 \\ + \square \\ \hline \end{array}$	$\begin{array}{r} 4 \\ + \square \\ \hline \end{array}$	$\begin{array}{r} 2 \\ + \square \\ \hline \end{array}$	$\begin{array}{r} 1 \\ + \square \\ \hline \end{array}$
<input type="text" value="10"/>	<input type="text" value="10"/>	<input type="text" value="10"/>	<input type="text" value="10"/>	<input type="text"/>	<input type="text"/>

19

دی گئی اشکال کی مدد سے خالی خانے میں درست عدد لکھیں

	$9 + \square = 10$
	$8 + \square = 10$
	$7 + \square = 10$
	$6 + \square = 10$
	$5 + \square = 10$
	$4 + \square = 10$
	$3 + \square = 10$
	$2 + \square = 10$
	$1 + \square = 10$

18

عدد دس کو صحیح گروپ سے ملائیں

10

دی گئی اشکال کی مدد سے خالی خانے میں درست عدد لکھیں

6 + = 10

8 + = 10

3 + = 10

دی گئی اشکال کی مدد سے سوال حل کریں

$\begin{array}{r} 5 \\ + \square \\ \hline \square \end{array}$	$\begin{array}{r} 7 \\ + \square \\ \hline \square \end{array}$	$\begin{array}{r} 6 \\ + \square \\ \hline \square \end{array}$
---	---	---

گنیں اور عدد لکھیں

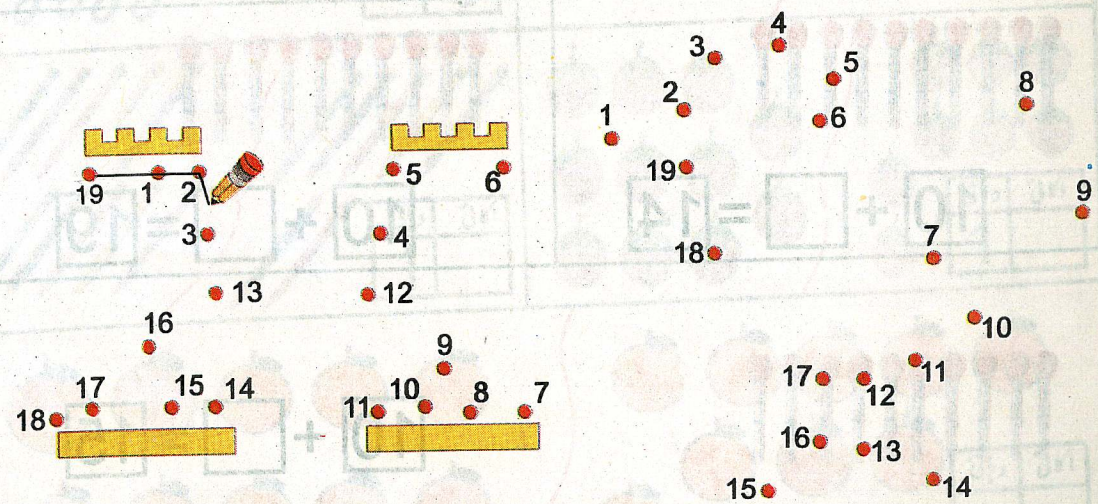
 <input type="text"/> <input type="text"/>	 <input type="text"/> <input type="text"/>	 <input type="text"/> <input type="text"/>
 <input type="text"/> <input type="text"/>	 <input type="text"/> <input type="text"/>	 <input type="text"/> <input type="text"/>
 <input type="text"/> <input type="text"/>	 <input type="text"/> <input type="text"/>	 <input type="text"/> <input type="text"/>

خالی خانوں میں ترتیب سے اعداد لکھیں

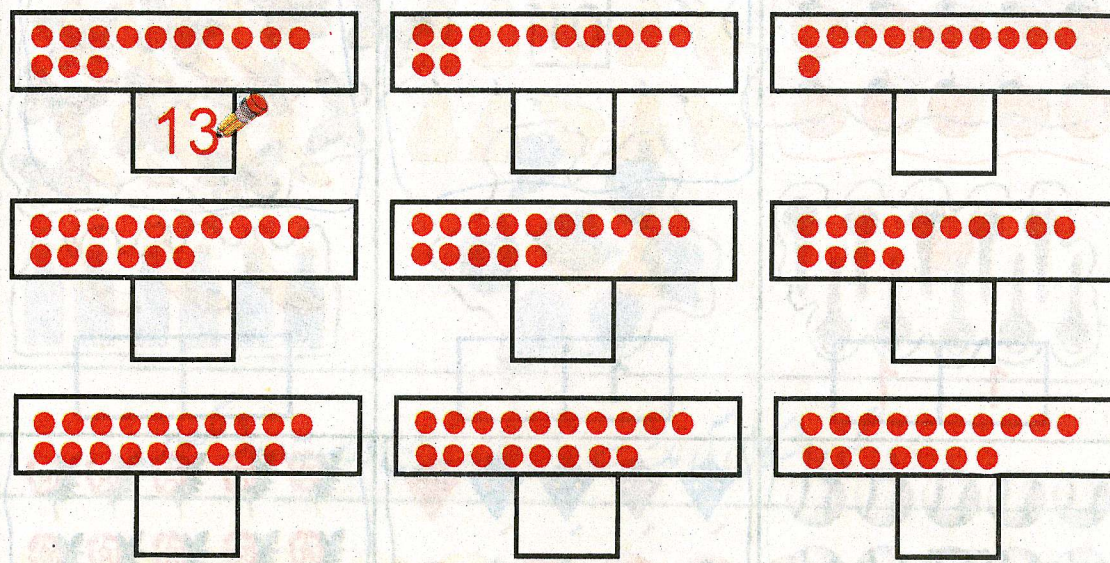


$10 + 1 = 11$	$15 + \square = 16$
$11 + 1 = 12$	$\square + \square = \square$
$12 + \square = \square$	$\square + \square = \square$
$\square + \square = \square$	$\square + \square = \square$
$\square + \square = \square$	$\square + \square = \square$


ترتیب کے لحاظ سے اعداد ملا کر اشکال مکمل کریں











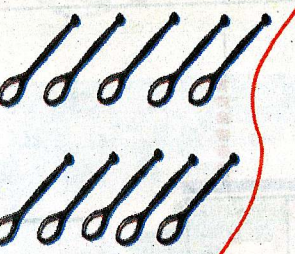









ہر خانے میں نقطے گنیں اور ان کی تعداد کو درست عدد سے ظاہر کریں






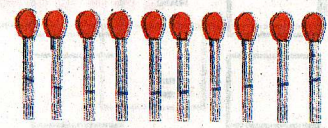


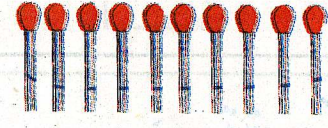
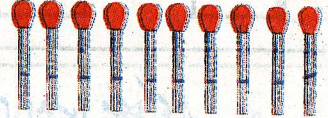
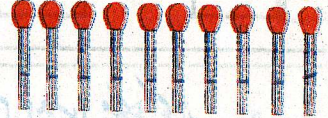
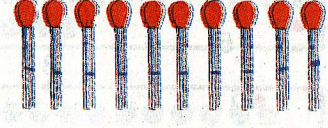
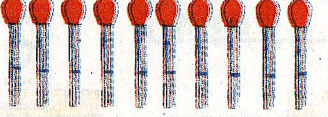
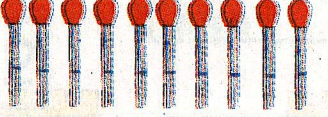
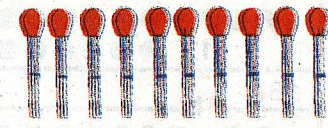
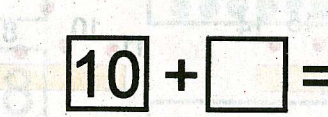
ہر خانے میں نقطے گنیں اور ان کی تعداد کو درست عدد سے ملائیں





اکاتیاں اور دہائیاں گن کر درست عدد سے ظاہر کریں

	 <table border="1" data-bbox="655 516 795 616"> <tr> <td>دہائی</td> <td>اکائی</td> </tr> <tr> <td>1</td> <td>1</td> </tr> </table>	دہائی	اکائی	1	1		 <table border="1" data-bbox="1215 506 1355 606"> <tr> <td>دہائی</td> <td>اکائی</td> </tr> <tr> <td>1</td> <td></td> </tr> </table>	دہائی	اکائی	1	
دہائی	اکائی										
1	1										
دہائی	اکائی										
1											
	 <table border="1" data-bbox="655 778 795 878"> <tr> <td>دہائی</td> <td>اکائی</td> </tr> <tr> <td></td> <td>3</td> </tr> </table>	دہائی	اکائی		3		 <table border="1" data-bbox="1215 768 1355 868"> <tr> <td>دہائی</td> <td>اکائی</td> </tr> <tr> <td>1</td> <td></td> </tr> </table>	دہائی	اکائی	1	
دہائی	اکائی										
	3										
دہائی	اکائی										
1											
	 <table border="1" data-bbox="655 1040 795 1141"> <tr> <td>دہائی</td> <td>اکائی</td> </tr> <tr> <td></td> <td>5</td> </tr> </table>	دہائی	اکائی		5		 <table border="1" data-bbox="1215 1030 1355 1130"> <tr> <td>دہائی</td> <td>اکائی</td> </tr> <tr> <td></td> <td>6</td> </tr> </table>	دہائی	اکائی		6
دہائی	اکائی										
	5										
دہائی	اکائی										
	6										
	 <table border="1" data-bbox="655 1312 795 1413"> <tr> <td>دہائی</td> <td>اکائی</td> </tr> <tr> <td>1</td> <td></td> </tr> </table>	دہائی	اکائی	1			 <table border="1" data-bbox="1215 1292 1355 1393"> <tr> <td>دہائی</td> <td>اکائی</td> </tr> <tr> <td>1</td> <td></td> </tr> </table>	دہائی	اکائی	1	
دہائی	اکائی										
1											
دہائی	اکائی										
1											
	 <table border="1" data-bbox="1215 1554 1355 1655"> <tr> <td>دہائی</td> <td>اکائی</td> </tr> <tr> <td></td> <td></td> </tr> </table>	دہائی	اکائی								
دہائی	اکائی										

ہر خانے میں اکائی کے ہندسے کے مطابق تیلیاں بنائیں اور ان کی تعداد کو درست عدد سے ظاہر کریں

		$10 + 1 = 11$		$10 + \square = 16$
		$10 + \square = 12$		$10 + \square = 17$
		$10 + \square = 13$		$10 + \square = 18$
		$10 + \square = 14$		$10 + \square = 19$
		$10 + \square = 15$		

اعداد کی ترتیب سمجھ کر خالی خانے پر کیجئے






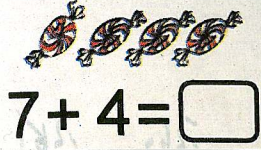











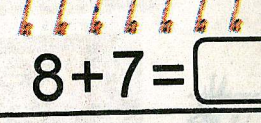
27

نیچے دیتے گئے ہر پال فریم میں اکائیوں اور دہائیوں کے مقام پر گولیاں لگائیں اور ان کی تعداد ان کے اپنے مقام پر لکھیں اور اس طرح بننے والے دو ہندسی عدد بھی لکھیں



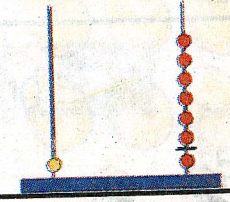
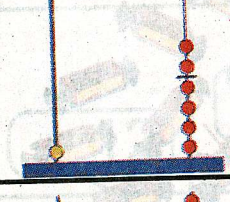

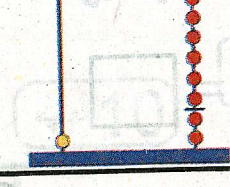
دہائی	اکائی	دہائی	اکائی
1	1		

26

تصاویر کو گن کر سوال حل کریں

  $8 + 5 = 13$	  $7 + 4 = \square$
  $6 + 9 = \square$	  $8 + 3 = \square$
  $5 + 7 = \square$	  $9 + 9 = \square$
  $7 + 6 = \square$	  $8 + 7 = \square$







بال فریم کی مدد سے سوال حل کریں

 $\begin{array}{r} 13 \\ + 2 \\ \hline 15 \end{array}$	 $\begin{array}{r} 15 \\ + 4 \\ \hline \end{array}$
 $\begin{array}{r} 11 \\ + 6 \\ \hline \end{array}$	 $\begin{array}{r} 14 \\ + 2 \\ \hline \end{array}$
 $\begin{array}{r} 15 \\ + 3 \\ \hline \end{array}$	 $\begin{array}{r} 12 \\ + 7 \\ \hline \end{array}$







جائزہ نمبر 3

اکاتی کے بند سوں کے مطابق تیلیاں بنائیں اور ان کی تعداد کو درست عدد سے ظاہر کریں

خالی خانوں میں اکاتیوں کی تعداد لکھیں اور پھر درست کریں

  $10 + \square = 14$	 1 <input type="text"/> <input type="text"/>
  $10 + \square = 17$	 1 <input type="text"/> <input type="text"/>

ہر خانے میں نقطے گنیں اور ان کی تعداد کو درست عدد سے ملائیں

 18	 13
 15	 12
 19	 16

خالی خانوں میں ترتیب وار اعداد لکھیں

11	<input type="text"/>	<input type="text"/>	<input type="text"/>	15	<input type="text"/>	<input type="text"/>	<input type="text"/>
<input type="text"/>	18	<input type="text"/>	<input type="text"/>	<input type="text"/>	13	<input type="text"/>	<input type="text"/>

پاکستانی نوٹ



کل کتنے روپے ہونے؟



روپے



روپے



روپے

حل کریں



آپ کے پاس کتنے روپے ہیں؟



آپ نے کتنے روپے خرچ کیے؟



11 روپے

کتنے روپے باقی بچے؟

$$\square - \square = \square$$

روپے



12 روپے

$$\square - \square = \square$$

روپے



10 روپے

$$\square - \square = \square$$

روپے

حل کریں

دہائی اکائی

$$\begin{array}{r} 10 \\ 10 \\ 9 \\ \hline 10 \\ + 9 \\ \hline \end{array}$$

کل کتنی


دہائی اکائی

$$\begin{array}{r} 10 \\ 10 \\ 3 \\ \hline 10 \\ + 3 \\ \hline \end{array}$$

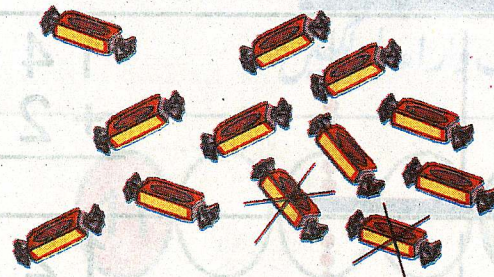
کل کتنے



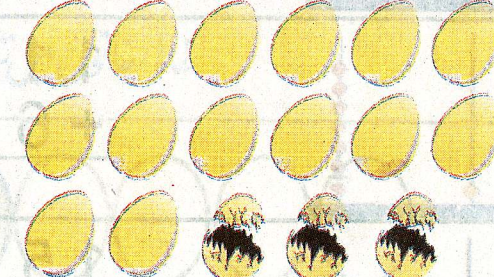
$$\square + \square = \square$$



$$\square + \square = \square$$



$$\square - \square = \square$$



$$\square - \square = \square$$

مثال کی مدد سے سوال حل کریں




$18 - 5 = 13$



$19 - 4 = \square$




$19 - 8 = \square$



$17 - 3 = \square$



$16 - 5 = \square$



$16 - 2 = \square$



$17 - 3 = \square$



$14 - 1 = \square$

حل کریں

$17 - 4 = \square$

$16 - 5 = \square$

$19 - 4 = \square$

$17 - 2 = \square$

$18 - 1 = \square$

$16 - 3 = \square$

$15 - 3 = \square$

$19 - 5 = \square$

حل کریں

$$\begin{array}{r} 16 \\ + 3 \\ \hline 19 \end{array}$$

$$\begin{array}{r} 14 \\ + 2 \\ \hline \end{array}$$

$$\begin{array}{r} 11 \\ + 8 \\ \hline \end{array}$$

$$\begin{array}{r} 13 \\ + 4 \\ \hline \end{array}$$

$$\begin{array}{r} 12 \\ + 5 \\ \hline \end{array}$$

$$\begin{array}{r} 17 \\ + 1 \\ \hline \end{array}$$

$$\begin{array}{r} 19 \\ + 0 \\ \hline \end{array}$$

$$\begin{array}{r} 14 \\ + 4 \\ \hline \end{array}$$

$$\begin{array}{r} 12 \\ + 3 \\ \hline \end{array}$$

حل کریں

$12 + \text{sun} = 15$

$\text{leaf} + 4 = 14$

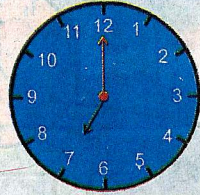
$\text{cup} + 5 = 18$

$13 + \text{glass} = 16$

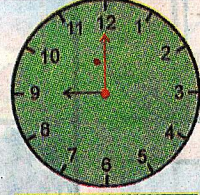
$\text{orange} + 3 = 17$

$11 + \text{apple} = 19$


ہر گھڑی جو وقت ظاہر کر رہی ہے خانے میں لکھیں




7 بجے



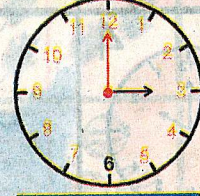
بجے




بجے



بجے




بجے

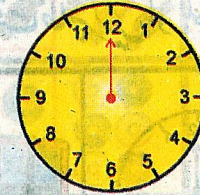


بجے

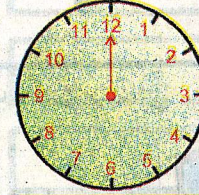
لکھے ہوئے وقت کو گھڑی پر ظاہر کریں




10 بجے



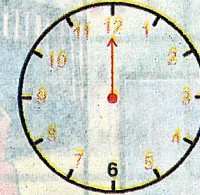
4 بجے




2 بجے



5 بجے



9 بجے



11 بجے

حل کریں

$$\begin{array}{r} 18 \\ + 1 \\ \hline \end{array}$$

$$\begin{array}{r} 14 \\ + 5 \\ \hline \end{array}$$

$$16 - 3 = \square$$

$$17 - 5 = \square$$

حل کریں

$$11 + \square = 16$$

$$10 + \square = 14$$

$$\square + 3 = 17$$

$$\square + 2 = 13$$

کل کتنے روپے ہوئے



روپے _____

حل کریں

آپ کے پاس کتنے روپے ہیں



خرچ کئے



12 روپے

کتنے روپے باقی بچے

$$\square - \square = \square$$

خالی خانوں میں ترتیب وار اعداد لکھیں
 چیزوں کی گن کر تعداد لکھیں اور ترتیب سے پڑھیں

		20		20
		21		
				24
				20

گھڑی جو وقت ظاہر کر رہی ہے خانے میں لکھیں

<p>1 صبح اٹھنے کا وقت</p>	<p>2 سکول جانے کا وقت</p>
<p>4 کھانا کھانے کا وقت</p>	<p>3 گھر واپس آنے کا وقت</p>

گھڑی پر وقت ظاہر کریں اور لکھیں

<p>آپ رات کتنے بجے سوتے ہیں</p>	<p>آپ صبح کتنے بجے اٹھتے ہیں</p>
---------------------------------	----------------------------------

حل کریں

$\begin{array}{r} 15 \\ + 4 \\ \hline 19 \end{array}$	$\begin{array}{r} 21 \\ + 4 \\ \hline \end{array}$	$\begin{array}{r} 10 \\ + 4 \\ \hline \end{array}$
$\begin{array}{r} 19 \\ - 4 \\ \hline \end{array}$	$\begin{array}{r} 20 \\ - 4 \\ \hline \end{array}$	$\begin{array}{r} 20 \\ - 4 \\ \hline \end{array}$

دہائی	اکائی
1	3
+1	2

دہائی	اکائی
1	7
+1	1

دہائی	اکائی
1	0
+1	0

دہائی	اکائی
2	2
-1	0

دہائی	اکائی
2	5
-1	3

دہائی	اکائی
2	9
-1	0

گنتیں اور عدد لکھیں

اعداد کو ترتیب سے ملا کر شکل مکمل کریں

1 2 3 4 5 6 7 8 9 10 11 12 13 14 15 16 17 18 19 20 21 22 23 24 25 26 27 28 29 30

انگور کے دانوں کی تعداد لکھیں

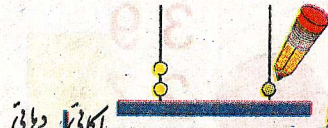

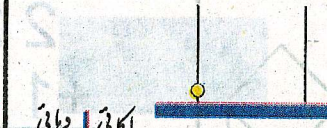









		<input type="text" value="3"/> <input type="text" value="0"/>
		<input type="text" value="3"/> <input type="text" value="1"/>
		<input type="text"/>
		<input type="text"/>
		<input type="text"/>
		<input type="text"/>

نیچے لکھی ہوئی ترتیب وار گنتی میں خالی جگہیں پُر کیجیے













30 34 39

39 ○ ○ 36 ○ ○ ○ ○ ○









ہر خانے میں اکائی کے ہندسے کے مطابق اینکس پر گولیاں بنائیں اور تعداد کو درست عدد سے ظاہر کریں

 اکائی دہائی 2 1	 اکائی دہائی 2 1	 اکائی دہائی 1 5	 اکائی دہائی 1 5	 اکائی دہائی 2 3	 اکائی دہائی 2 3
 اکائی دہائی 3 2	 اکائی دہائی 3 2	 اکائی دہائی 2 5	 اکائی دہائی 2 5	 اکائی دہائی 3 4	 اکائی دہائی 3 4


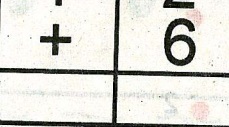

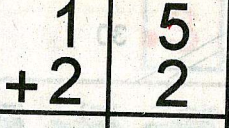








ترتیب کے لحاظ سے اگلا پہلا عدد لکھیں

 21	 19	 20	 30	 34	 25
 39	 29	 29	 29	 29	 29









دیئے ہوئے اعداد سے اگلا پہلا درمیانی عدد لکھیں

 28	 25	 27	 36
 35	 37	 39	 22

حل کریں


 دہائی اکائی 1 2	 دہائی اکائی 2 6	 دہائی اکائی 3 0
 دہائی اکائی 1 2	 دہائی اکائی 2 6	 دہائی اکائی 3 0
 دہائی اکائی 1 5	 دہائی اکائی 3 4	 دہائی اکائی 2 1
 دہائی اکائی 1 5	 دہائی اکائی 3 4	 دہائی اکائی 2 1

حل کریں

 دہائی اکائی 3 4	 دہائی اکائی 2 8
 دہائی اکائی 3 4	 دہائی اکائی 2 8
 دہائی اکائی 1 9	 دہائی اکائی 3 8
 دہائی اکائی 1 9	 دہائی اکائی 3 8

ترتیب کے لحاظ سے اگلا پہلا اور درمیانی عدد لکھیں

حل کریں

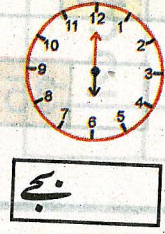
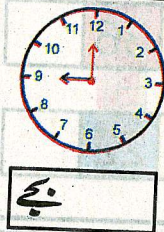


22	39
$+11$	-27
<hr/>	<hr/>
23	37
$+14$	-35
<hr/>	<hr/>
10	28
$+18$	-15
<hr/>	<hr/>

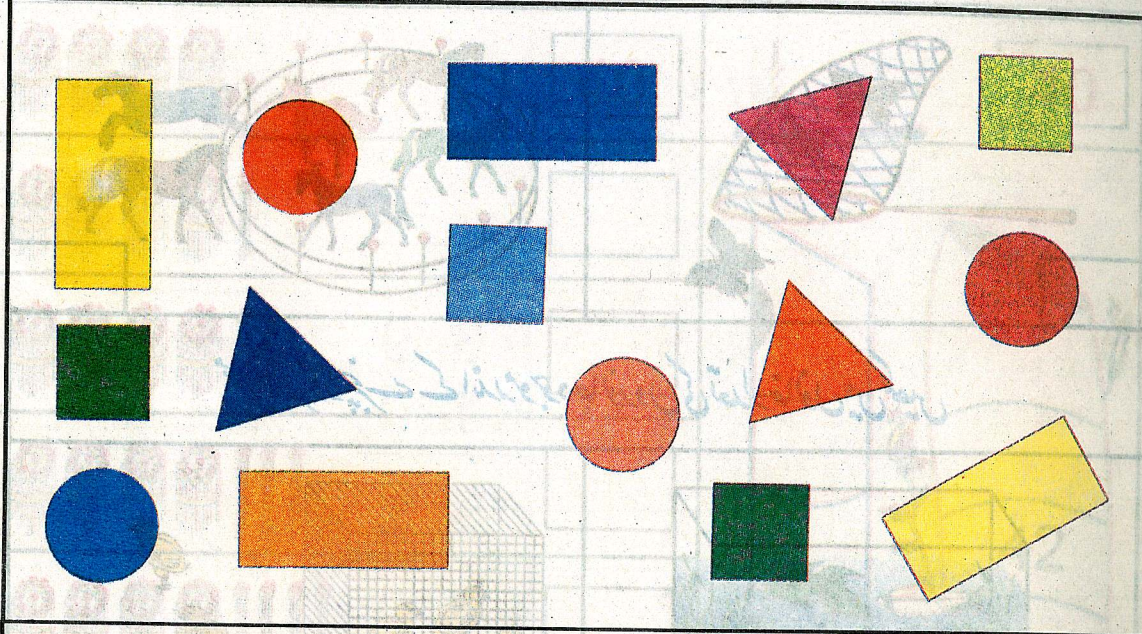
نیچے لکھے ہوئے وقت کو گھڑی پر ظاہر کریں



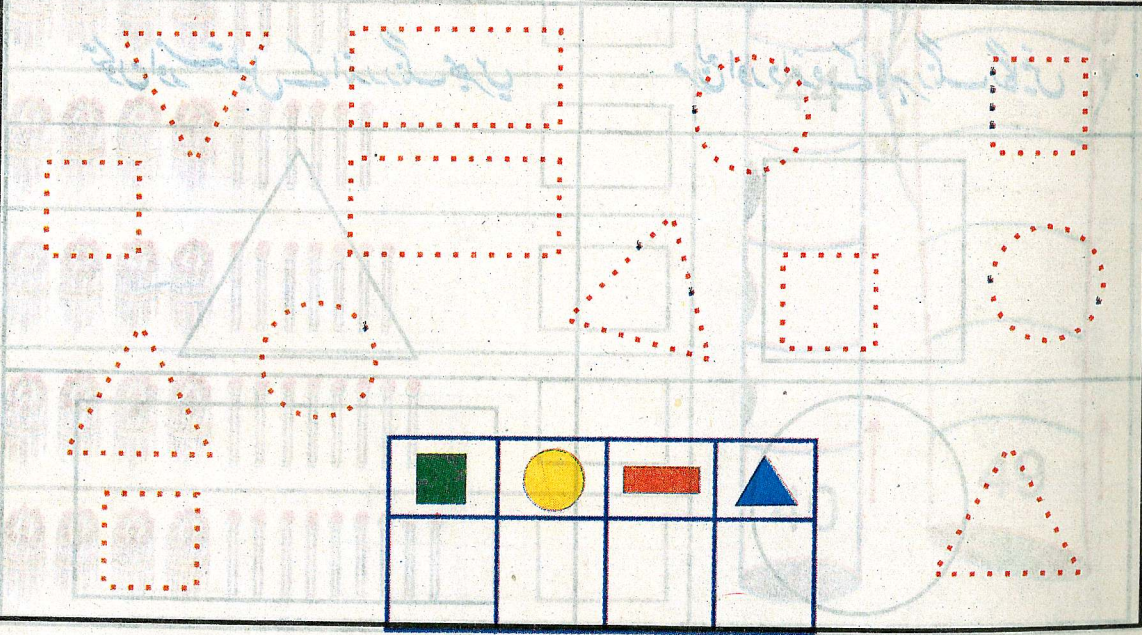
ہر گھڑی جو وقت ظاہر کر رہی ہے خالی خانے میں لکھیں



ایک جیسی اشکال کو ملائیں
















نقاط ملا کر اشکال مکمل کریں اور دیتے گئے خانے میں تعداد لکھیں







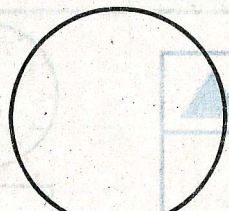



ہر خانے میں تیلیاں گن کر تعداد لکھیں اور ترتیب سے پڑھیں

خالی خانوں میں ترتیب وار اعداد لکھیں










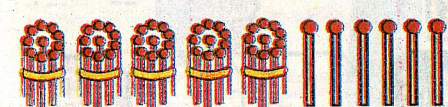

	40		40
			
			
			
			
			
			
			
			
			
			

جال اور باڑ کے باہر موجود جانوروں کی تعداد خانوں میں لکھیں

	
مچھلی گھر اور پتھر کے اندر موجود جانوروں کی تعداد خانوں میں لکھیں	
	
مربع اور دائرہ کے باہر رنگ لگائیں	متکون اور مستطیل کے اندر رنگ بھریں
	
	

تیلیاں گن کر اعداد لکھیں اور ترتیب سے پڑھیں

خالی خانوں میں ترتیب وار اعداد لکھیں

	50	
		
		
		
		
		
		
		
		
	59	

عمل کریں

اکائی دہائی 4 0 + 2	اکائی دہائی 4 3 + 1	اکائی دہائی 4 2 + 4	اکائی دہائی 4 0 + 9
3 2 + 1 5	2 5 + 2 4	3 9 + 1 0	4 0 + 0
3 3 + 1 4	3 1 + 1 7	1 9 + 3 0	2 2 + 6 6
4 3 - 2	4 5 - 3	4 7 - 1	4 9 - 6
4 2 - 1 0	4 5 - 1 2	4 0 - 3 0	4 7 - 2 5
4 8 - 3 1	4 1 - 2 0	4 9 - 4 0	4 6 - 4 3

بچوں کی تعداد گن کر خانے میں لکھیں



51

خالی جگہوں میں ترتیب وار اعداد لکھیں

1	2								10
11									20
	22				26			29	30
31			34			37			40
41		43		45				49	50

خالی جگہوں میں ترتیب وار اعداد لکھیں

	35		37		39			42
22			25	26			29	
		18	19					
14	15				19			
		43			46			49
30				34				

50

دہائیاں گن کر عدد لکھیں

		10	

گٹھوں کو گن کر درست عدد لکھیں

	40

ہر خانے میں تعداد کے مطابق درست عدد کے گرد دائرہ لگائیں

	54 45		34 43
	39 31		24 42
	5 50		40 4

ایکس (بال فریم) پر ظاہر کئے گئے درست عدد کے گرد دائرہ لگائیں

32	23	14	41
45	54	25	52
12	21	35	53

پاکستانی نوٹ



کل کتنی رقم ہوتی



حل کریں

	21 روپے	روپے 52 - روپے 21
	35 روپے	روپے - روپے
	40 روپے	روپے - روپے

حل کریں

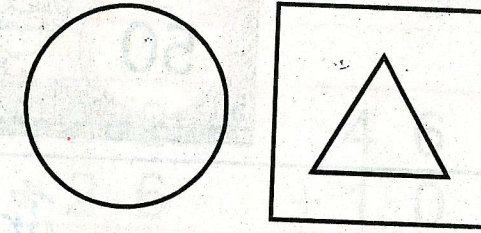
$\begin{array}{r} 50 \\ + 3 \\ \hline \end{array}$	$\begin{array}{r} 52 \\ + 6 \\ \hline \end{array}$	$\begin{array}{r} 57 \\ + 2 \\ \hline \end{array}$	$\begin{array}{r} 50 \\ + 9 \\ \hline \end{array}$
$\begin{array}{r} 42 \\ + 11 \\ \hline \end{array}$	$\begin{array}{r} 36 \\ + 23 \\ \hline \end{array}$	$\begin{array}{r} 32 \\ + 26 \\ \hline \end{array}$	$\begin{array}{r} 46 \\ + 10 \\ \hline \end{array}$
$\begin{array}{r} 10 \\ + 40 \\ \hline \end{array}$	$\begin{array}{r} 42 \\ + 17 \\ \hline \end{array}$	$\begin{array}{r} 16 \\ + 42 \\ \hline \end{array}$	$\begin{array}{r} 14 \\ + 43 \\ \hline \end{array}$
$\begin{array}{r} 52 \\ - 2 \\ \hline \end{array}$	$\begin{array}{r} 55 \\ - 3 \\ \hline \end{array}$	$\begin{array}{r} 57 \\ - 2 \\ \hline \end{array}$	$\begin{array}{r} 59 \\ - 9 \\ \hline \end{array}$
$\begin{array}{r} 59 \\ - 12 \\ \hline \end{array}$	$\begin{array}{r} 56 \\ - 16 \\ \hline \end{array}$	$\begin{array}{r} 50 \\ - 40 \\ \hline \end{array}$	$\begin{array}{r} 57 \\ - 36 \\ \hline \end{array}$
$\begin{array}{r} 58 \\ - 41 \\ \hline \end{array}$	$\begin{array}{r} 52 \\ - 30 \\ \hline \end{array}$	$\begin{array}{r} 58 \\ - 38 \\ \hline \end{array}$	$\begin{array}{r} 51 \\ - 10 \\ \hline \end{array}$

تکون کے باہر رنگ بھریں دائرے کے اندر نقطے لگائیں

حل کریں۔

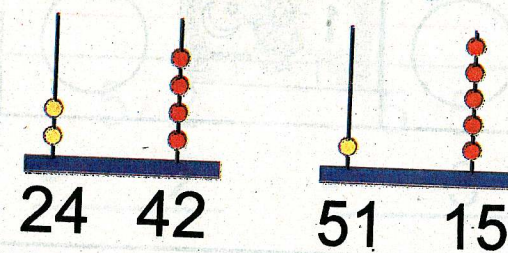
$$\begin{array}{r} 33 \\ + 14 \\ \hline \end{array} \quad \begin{array}{r} 49 \\ - 32 \\ \hline \end{array}$$

$$\begin{array}{r} 24 \\ + 35 \\ \hline \end{array} \quad \begin{array}{r} 58 \\ - 27 \\ \hline \end{array}$$




بال فریم پر ظاہر کئے گئے درست عدد کے گرد دائرہ لگائیں

ترتیب وار عدد مکمل کریں



پھلیاں گنیں اور ان کی تعداد خالی خانے میں لکھیں



تیلیاں گن کر تعداد لکھیں اور ترتیب سے پڑھیں

	60		70
	61		71

حل کریں

60
+ 10

35
+ 42

71
+ 7

54
+ 20

18
+ 61

46
+ 10

59
- 8

49
- 34

39
- 2

74
- 21

65
- 33

59

مثال کے مطابق خالی جگہوں پر مناسب اعداد لکھیں

دہائی	اکائی	
4	3	43

دہائی	اکائی	

دہائی	اکائی	

دہائی	اکائی	


دہائی	اکائی	

دہائی	اکائی	

دہائی	اکائی	

58



جس دھاگے میں زیادہ موٹی پروئے جاسکتے ہیں اس پر دس کا نشان اور جس ٹوکری میں کم پھل آتے ہیں اس پر (x) کا نشان لگائیں














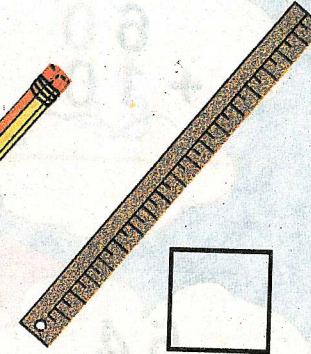



جس گاڑی میں زیادہ سواریوں کی گنجائش ہے اس پر دس کا نشان لگائیں



جس برتن میں کم دودھ آتا ہے اس پر (x) کا نشان لگائیں



ہر خانے میں دی گئی اشیاء کے مطابق سکوں میں یا ارد گرد موجود اشیاء کو بالشتوں سے ناپ کر لکھیں اور زیادہ لمبی چیزوں پر دس کا نشان لگائیں

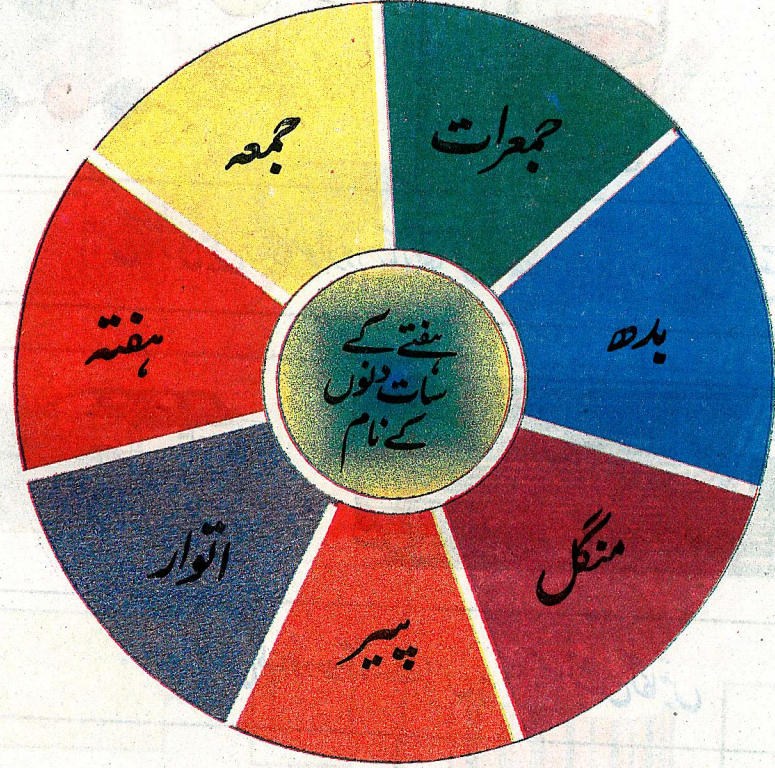


ہر سوال کے سامنے دیے گئے خالی خانے میں جواب لکھیں

	آپ کو کون سے دن چھٹی ہوتی ہے؟
	آج کون سا دن ہے؟
	کل کون سا دن تھا؟
	کل کون سا دن ہوگا؟
	اتوار سے پہلے کون سا دن ہوتا ہے؟
	جمعرات کے بعد کون سا دن ہوتا ہے؟
	ہفتے کے دو دن بعد کون سا دن ہوتا ہے؟
	پیر کے تین دن بعد کون سا دن ہوتا ہے؟
	بدھ اور جمعہ کے درمیان کون سا دن ہوتا ہے؟
	ہفتے اور منگل کے درمیان آنے والے دنوں کے نام لکھیں؟

63



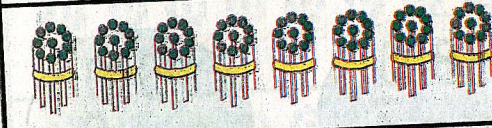







ہفتے کے دنوں کے نام پڑھیں اور نیچے خانوں میں ترتیب سے لکھیں



			جمعرات			پیر
--	--	--	--------	--	--	-----

62

تیلیاں گن کر تعداد لکھیں اور ترتیب سے پڑھیں

	80
	81
	
	
	
	
	
	
	
	

حل کریں


مکعبوں کی کل تعداد لکھیں


$$\begin{array}{r} 36 \\ + 43 \\ \hline \end{array}$$

$$\begin{array}{r} 74 \\ - 21 \\ \hline \end{array}$$

$$\begin{array}{r} 43 \\ + 35 \\ \hline \end{array}$$




$$\begin{array}{r} 69 \\ - 32 \\ \hline \end{array}$$





جس برتن میں زیادہ پانی آتا ہے
اس پر دس کا نشان لگائیں

کھڑکی اور بلیک بورڈ کی بالشت سے پیمائش کریں
اور زیادہ لمبی چیز پر دس کا نشان لگائیں



دنوں کے نام لکھیں

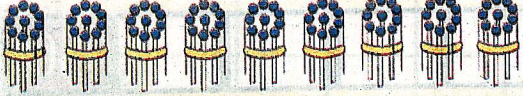










جمعرات

پیر

آج کون سا دن ہے؟

جمعہ کے بعد کون سا دن آتا ہے؟

تیلیاں گن کر تعداد لکھیں اور ترتیب سے پڑھیں

	90
	91
	
	
	
	
	
	
	
	
	100

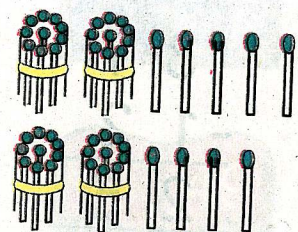
حل کریں

$\begin{array}{r} 80 \\ + 1 \\ \hline \end{array}$	$\begin{array}{r} 80 \\ + 2 \\ \hline \end{array}$	$\begin{array}{r} 80 \\ + 3 \\ \hline \end{array}$	$\begin{array}{r} 80 \\ + 4 \\ \hline \end{array}$
$\begin{array}{r} 80 \\ + 5 \\ \hline \end{array}$	$\begin{array}{r} 80 \\ + 6 \\ \hline \end{array}$	$\begin{array}{r} 80 \\ + 7 \\ \hline \end{array}$	$\begin{array}{r} 80 \\ + 8 \\ \hline \end{array}$

حل کریں

$\begin{array}{r} 80 \\ - 10 \\ \hline \end{array}$	$\begin{array}{r} 80 \\ - 20 \\ \hline \end{array}$	$\begin{array}{r} 80 \\ - 30 \\ \hline \end{array}$	$\begin{array}{r} 80 \\ - 40 \\ \hline \end{array}$
$\begin{array}{r} 80 \\ - 50 \\ \hline \end{array}$	$\begin{array}{r} 80 \\ - 60 \\ \hline \end{array}$	$\begin{array}{r} 80 \\ - 70 \\ \hline \end{array}$	$\begin{array}{r} 80 \\ - 80 \\ \hline \end{array}$

حل کریں



$$\begin{array}{r} 25 \\ + 24 \\ \hline 49 \end{array}$$

$$25 + 24 = 49$$


$$\begin{array}{r} 12 \\ + 15 \\ \hline \end{array} \quad \begin{array}{r} 13 \\ + 23 \\ \hline \end{array} \quad \begin{array}{r} 14 \\ + 52 \\ \hline \end{array} \quad \begin{array}{r} 15 \\ + 84 \\ \hline \end{array} \quad \begin{array}{r} 20 \\ + 70 \\ \hline \end{array}$$

$$\begin{array}{r} 20 \\ + 14 \\ \hline \end{array} \quad \begin{array}{r} 15 \\ + 33 \\ \hline \end{array} \quad \begin{array}{r} 31 \\ + 45 \\ \hline \end{array} \quad \begin{array}{r} 21 \\ + 72 \\ \hline \end{array} \quad \begin{array}{r} 32 \\ + 65 \\ \hline \end{array}$$

$$\begin{array}{r} 34 \\ + 13 \\ \hline \end{array} \quad \begin{array}{r} 52 \\ + 34 \\ \hline \end{array} \quad \begin{array}{r} 80 \\ + 19 \\ \hline \end{array} \quad \begin{array}{r} 25 \\ + 60 \\ \hline \end{array} \quad \begin{array}{r} 12 \\ + 76 \\ \hline \end{array}$$

دہائیاں گنتیں اور درست عدد سے ظاہر کریں


حل کریں




$$10 + 10 =$$



$$20 + 10 =$$



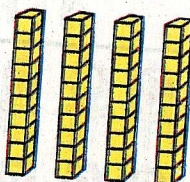
$$30 + 10 =$$




$$40 + 10 =$$



$$50 + 10 =$$



$$60 + 10 =$$




$$70 + 10 =$$

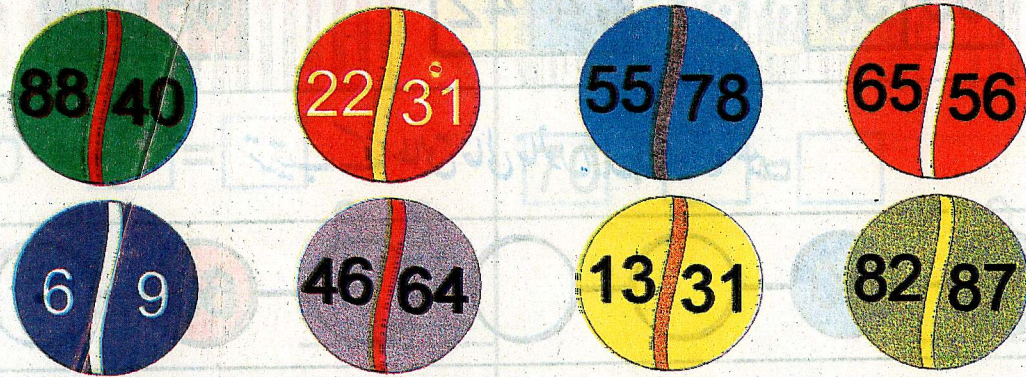
$$80 + 10 =$$

$$90 + 10 =$$

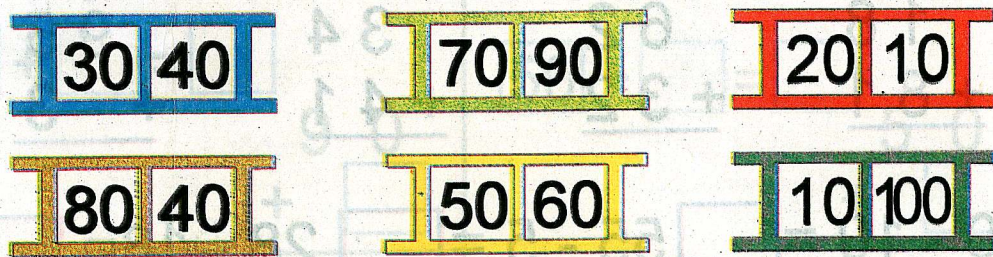
ترتیب کے مطابق پہلے یا بعد میں آنے والا عدد لکھیں



بڑے عدد پر سے، کا نشان لگائیں



چھوٹی دہائی پر سے، کا نشان لگائیں



حل کریں

37 - 12 = 25

$$\begin{array}{r} 37 \\ -12 \\ \hline 25 \end{array}$$

$$\begin{array}{r} 17 \\ -12 \\ \hline \end{array}$$

$$\begin{array}{r} 36 \\ -22 \\ \hline \end{array}$$

$$\begin{array}{r} 43 \\ -41 \\ \hline \end{array}$$

$$\begin{array}{r} 59 \\ -12 \\ \hline \end{array}$$

$$\begin{array}{r} 69 \\ -36 \\ \hline \end{array}$$

$$\begin{array}{r} 25 \\ -13 \\ \hline \end{array}$$

$$\begin{array}{r} 45 \\ -13 \\ \hline \end{array}$$

$$\begin{array}{r} 57 \\ -27 \\ \hline \end{array}$$

$$\begin{array}{r} 65 \\ -12 \\ \hline \end{array}$$

$$\begin{array}{r} 68 \\ -24 \\ \hline \end{array}$$

$$\begin{array}{r} 58 \\ -27 \\ \hline \end{array}$$


$$\begin{array}{r} 69 \\ -21 \\ \hline \end{array}$$

$$\begin{array}{r} 65 \\ -55 \\ \hline \end{array}$$

$$\begin{array}{r} 78 \\ -32 \\ \hline \end{array}$$

$$\begin{array}{r} 99 \\ -10 \\ \hline \end{array}$$


ترتیب کے لحاظ سے خالی خانے پُر کیجئے



بڑے عدد پر سے کا نشان لگائیں



ترتیب کے مطابق خالی خانوں میں دہائیاں لکھیں




حل کریں

$$\begin{array}{r} 18 \\ + 81 \\ \hline \end{array} \quad \begin{array}{r} 62 \\ + 32 \\ \hline \end{array} \quad \begin{array}{r} 34 \\ + 41 \\ \hline \end{array} \quad \begin{array}{r} 95 \\ + 3 \\ \hline \end{array}$$


$$90 - 10 = \square \quad 55 - 5 = \square \quad 28 - 18 = \square$$

اکائیوں کی تعداد گن کر لکھیں اور دہائیوں میں جمع کریں



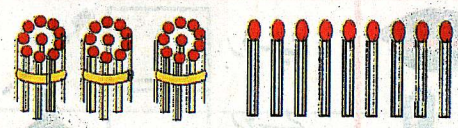
$$40 + 6 = 46$$

$$\begin{array}{r} 40 \\ + 6 \\ \hline 46 \end{array}$$



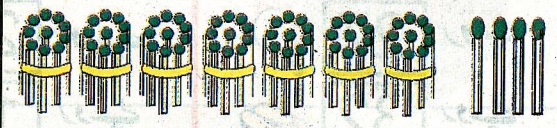
$$80 + \square = \square$$

$$\begin{array}{r} 80 \\ + \square \\ \hline \end{array}$$




$$30 + \square = \square$$

$$\begin{array}{r} 30 \\ + \square \\ \hline \end{array}$$




$$70 + \square = \square$$

$$\begin{array}{r} 70 \\ + \square \\ \hline \end{array}$$



$$90 + \square = \square$$







$$\begin{array}{r} 90 \\ + \square \\ \hline \end{array}$$













$$50 + \square = \square$$

$$\begin{array}{r} 50 \\ + \square \\ \hline \end{array}$$



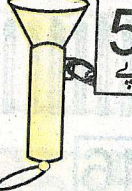



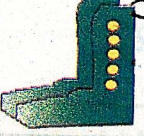

















سکوں کی پہچان

	پچیس پیسہ	
	پچاس پیسہ	
	ایک روپیہ	

سکوں کے گروہ کو مساوی قیمت کے سکے سے ملائیں


کل کتنی رقم ہوئی

	27 روپے		32 روپے		50 روپے		13 روپے
	25 روپے		44 روپے		16 روپے		10 روپے
	20 روپے		20 روپے		20 روپے		20 روپے
	27 روپے		32 روپے		20 روپے		20 روپے
	20 روپے		16 روپے		20 روپے		20 روپے
	20 روپے		20 روپے		20 روپے		20 روپے


آدھے کا تصور



ہر چیز کا آدھا حصہ اس کے آدھے حصے سے ملتا ہے



ہر چیز کے آدھے حصے میں رنگ بھریں



نوٹوں کی مدد سے سوال حل کریں

				27
				$- 15$
				12

				58
				$- 7$

			62
			$- 60$

				18
				$- 8$

حل کریں

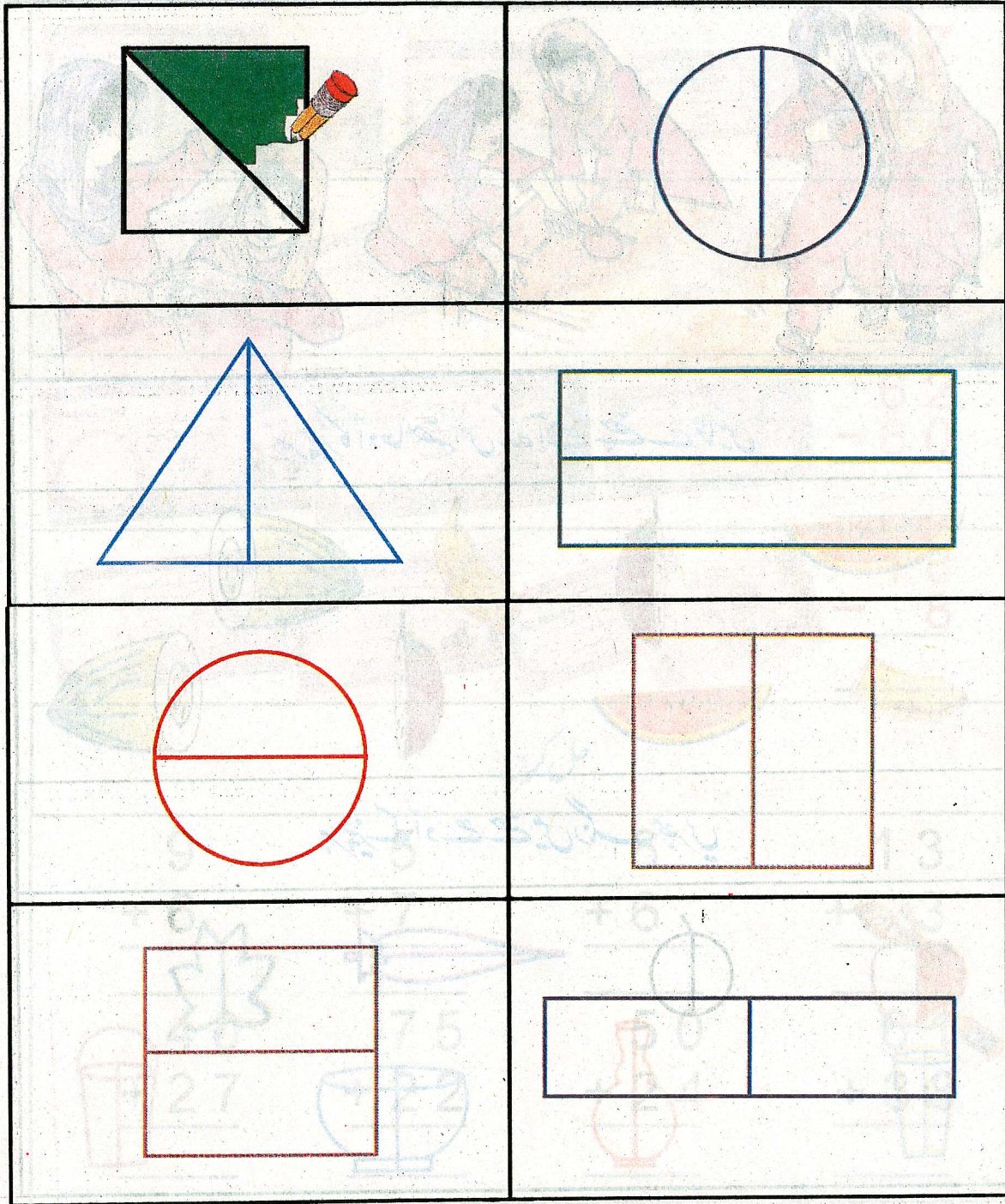
9	5	6	13
$+ 6$	$+ 7$	$+ 6$	$+ 3$
\hline	\hline	\hline	\hline
40	75	50	61
$+ 27$	$+ 22$	$+ 24$	$+ 38$
\hline	\hline	\hline	\hline

مثال کے مطابق ہر گروپ کی آدھی چیزوں کے گرد دائرہ لگائیں




81

ہر شکل کے آدھے حصے میں پنسل سے رنگ بھریں



80

اکائیوں کی تعداد گن کر لکھیں۔ اور دہائیوں جمع کریں





$40 + \square = \square$






$70 + \square = \square$

باقی اور گیند کی کل قیمت معلوم کریں


نوٹوں کی مدد سے سوال حل کریں











دی گئی اشکال کے آدھے حصے پر دس، کا نشان لگائیں اور پوچھائی حصے میں پنسل سے رنگ بھریں



آدھی ٹافیوں / کھلونوں کے گرد دائرہ لگائیں

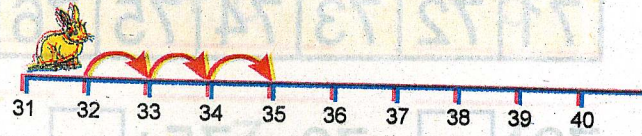


ہر شکل کے پوچھائی حصے میں پنسل سے رنگ بھریں

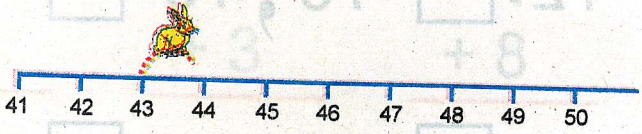


عددی شعاع کی مدد سے سوال حل کریں

$32 + \square = 35$



$43 + \square = 44$




$51 + \square = 60$




$64 + \square = 68$




$38 - \square = 32$



$46 - \square = 41$



$60 - \square = 53$



$69 - \square = 64$



عددی پٹی کی مدد سے سوال حل کریں

1	2	3	4	5	6	7	8	9	10
---	---	---	---	---	---	---	---	---	----

$5 + 4 = \square$

$6 + 2 = \square$

$7 + 3 = \square$

$8 - 5 = \square$

$7 - 1 = \square$

$9 - 8 = \square$

11	12	13	14	15	16	17	18	19	20
----	----	----	----	----	----	----	----	----	----

$$\begin{array}{r} 15 \\ + 2 \\ \hline \end{array}$$

$$\begin{array}{r} 17 \\ + 1 \\ \hline \end{array}$$

$$\begin{array}{r} 14 \\ + 4 \\ \hline \end{array}$$

$$\begin{array}{r} 15 \\ + 3 \\ \hline \end{array}$$

$$\begin{array}{r} 11 \\ + 8 \\ \hline \end{array}$$

$14 - 4 = \square$

$19 - 8 = \square$

$20 - 5 = \square$

21	22	23	24	25	26	27	28	29	30
----	----	----	----	----	----	----	----	----	----

$23 + 4 = \square$

$27 + 4 = \square$

$21 + 4 = \square$

$30 - 4 = \square$

$24 - 3 = \square$

$28 - 5 = \square$

حل کریں

$\begin{array}{r} 3 \\ + 2 \\ \hline \end{array}$	$\begin{array}{r} 5 \\ + 3 \\ \hline \end{array}$	$\begin{array}{r} 6 \\ + 0 \\ \hline \end{array}$	$\begin{array}{r} 4 \\ + 5 \\ \hline \end{array}$
$\begin{array}{r} 6 \\ + 6 \\ \hline \end{array}$	$\begin{array}{r} 9 \\ + 4 \\ \hline \end{array}$	$\begin{array}{r} 7 \\ + 3 \\ \hline \end{array}$	$\begin{array}{r} 4 \\ + 8 \\ \hline \end{array}$
$\begin{array}{r} 10 \\ + 7 \\ \hline \end{array}$	$\begin{array}{r} 30 \\ + 9 \\ \hline \end{array}$	$\begin{array}{r} 70 \\ + 8 \\ \hline \end{array}$	$\begin{array}{r} 60 \\ + 5 \\ \hline \end{array}$
$\begin{array}{r} 27 \\ + 2 \\ \hline \end{array}$	$\begin{array}{r} 33 \\ + 5 \\ \hline \end{array}$	$\begin{array}{r} 51 \\ + 6 \\ \hline \end{array}$	$\begin{array}{r} 75 \\ + 3 \\ \hline \end{array}$
$\begin{array}{r} 40 \\ + 20 \\ \hline \end{array}$	$\begin{array}{r} 50 \\ + 30 \\ \hline \end{array}$	$\begin{array}{r} 20 \\ + 50 \\ \hline \end{array}$	$\begin{array}{r} 70 \\ + 20 \\ \hline \end{array}$
$\begin{array}{r} 45 \\ + 24 \\ \hline \end{array}$	$\begin{array}{r} 52 \\ + 13 \\ \hline \end{array}$	$\begin{array}{r} 25 \\ + 60 \\ \hline \end{array}$	$\begin{array}{r} 30 \\ + 69 \\ \hline \end{array}$

87

عددی پٹی کی مدد سے سوال حل کریں

71 72 73 74 75 76 77 78 79 80

$$72 + \square = 76, 75 + \square = 77, 71 + \square = 79$$

$$74 - \square = 71, 76 - \square = 71, 77 - \square = 74$$

81 82 83 84 85 86 87 88 89 90

$$81 + \square = 83, 84 + \square = 88, 83 + \square = 89$$

$$83 - \square = 81, 89 - \square = 82, 87 - \square = 83$$

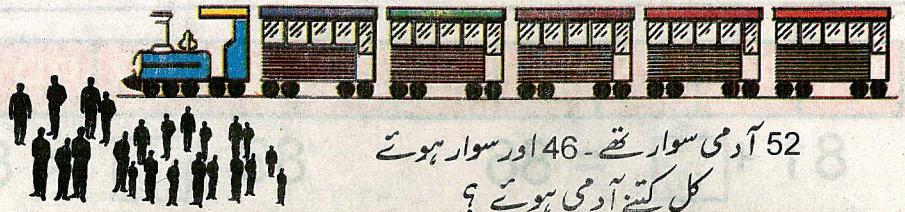

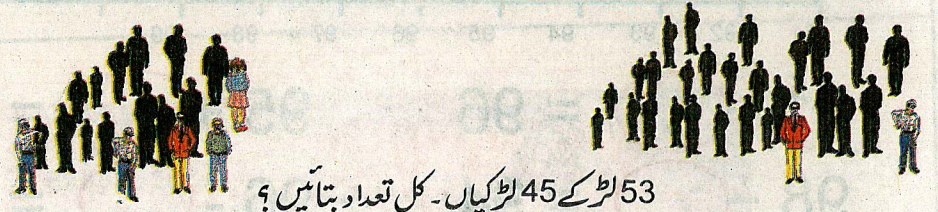

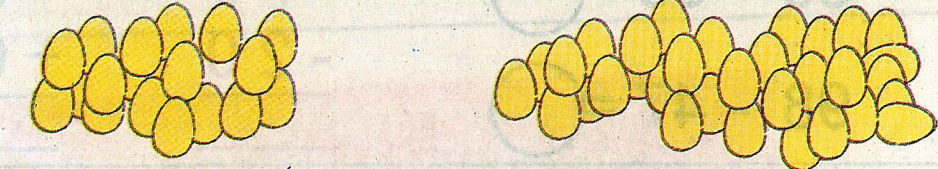

91 92 93 94 95 96 97 98 99 100

$$93 + \square = 97, 92 + \square = 96, 91 + \square = 99$$

$$95 - \square = 92, 97 - \square = 91, 99 - \square = 93$$

86

سوال پڑھیں اور سامنے خانہ میں حل کریں

	52 آدمی سوار تھے۔ 46 اور سوار ہوتے کل کتنے آدمی ہوتے؟
	88 کتابیں، 11 کتابیں۔ کل کتنی کتابیں ہوتیں؟
	53 لڑکے، 45 لڑکیاں۔ کل تعداد بتائیں؟
	36 پرندے تھے۔ 13 پرندے اڑ گئے۔ باقی کتنے رہ گئے؟
	176 انڈے تھے۔ 25 انڈے فروخت کئے۔ باقی کتنے رہ گئے؟
	98 روپے تھے۔ 40 روپے کی کتابیں خریدیں۔ باقی کتنے رہ گئے؟

حل کریں

$\begin{array}{r} 6 \\ - 4 \\ \hline \end{array}$	$\begin{array}{r} 8 \\ - 5 \\ \hline \end{array}$	$\begin{array}{r} 9 \\ - 3 \\ \hline \end{array}$	$\begin{array}{r} 7 \\ - 7 \\ \hline \end{array}$
$\begin{array}{r} 12 \\ - 1 \\ \hline \end{array}$	$\begin{array}{r} 56 \\ - 4 \\ \hline \end{array}$	$\begin{array}{r} 78 \\ - 2 \\ \hline \end{array}$	$\begin{array}{r} 89 \\ - 5 \\ \hline \end{array}$
$\begin{array}{r} 45 \\ - 3 \\ \hline \end{array}$	$\begin{array}{r} 96 \\ - 2 \\ \hline \end{array}$	$\begin{array}{r} 68 \\ - 8 \\ \hline \end{array}$	$\begin{array}{r} 39 \\ - 6 \\ \hline \end{array}$
$\begin{array}{r} 40 \\ - 30 \\ \hline \end{array}$	$\begin{array}{r} 50 \\ - 10 \\ \hline \end{array}$	$\begin{array}{r} 60 \\ - 40 \\ \hline \end{array}$	$\begin{array}{r} 70 \\ - 20 \\ \hline \end{array}$
$\begin{array}{r} 48 \\ - 24 \\ \hline \end{array}$	$\begin{array}{r} 45 \\ - 31 \\ \hline \end{array}$	$\begin{array}{r} 67 \\ - 15 \\ \hline \end{array}$	$\begin{array}{r} 99 \\ - 46 \\ \hline \end{array}$
$\begin{array}{r} 62 \\ - 42 \\ \hline \end{array}$	$\begin{array}{r} 51 \\ - 20 \\ \hline \end{array}$	$\begin{array}{r} 86 \\ - 53 \\ \hline \end{array}$	$\begin{array}{r} 74 \\ - 73 \\ \hline \end{array}$



91

عددی پٹی کی مدد سے سوال حل کریں

81 82 83 84 85 86 87 88 89 90


$$81 + \square = 86$$

$$86 + \square = 89$$

$$83 - \square = 81$$

$$88 - \square = 85$$

عددی شعاع کی مدد سے سوال حل کریں



$$91 + \bigcirc = 96$$

$$95 + \bigcirc = 97$$

$$98 - \bigcirc = 94$$

$$96 - \bigcirc = 92$$

حل کریں

$$63 + 35 = \bigcirc$$

79

37

$$98 - 47 = \bigcirc$$

-20

+62

سوال پڑھیں اور سامنے خانہ میں حل کریں


56 مرد 31 عورتیں افراد کی کل تعداد بتائیں

87 کیلے تھے 24 کھالے گئے کتنے باقی رہ گئے؟

90

سو تک گنتی

1	2	3	4	5	6	7	8	9	10
ایک	دو	تین	چار	پانچ	چھ	سات	آٹھ	نو	دس
11	12	13	14	15	16	17	18	19	20
گیارہ	بارہ	تیرہ	چودہ	پندرہ	سولہ	سترہ	اٹھارہ	اُنیس	بیس
21	22	23	24	25	26	27	28	29	30
ایکس	بائیس	تیس	چوبیس	پچیس	چھتیس	ستائیس	اٹھائیس	انیس	تیس
31	32	33	34	35	36	37	38	39	40
اچھتیس	بیس	تینتیس	چونتیس	پینتیس	چھتیس	سینتیس	اڑتیس	اتالیس	چالیس
41	42	43	44	45	46	47	48	49	50
اکتالیس	بیالیس	تینتالیس	چوالیس	پینتالیس	چھیالیس	سینتالیس	اڑتالیس	انچاس	پچاس
51	52	53	54	55	56	57	58	59	60
اکاون	باون	ترہپن	چون	پچپن	چھپن	ستاون	اٹھاون	انسٹھ	ساٹھ
61	62	63	64	65	66	67	68	69	70
اکسٹھ	باسٹھ	تریسٹھ	چونسٹھ	پینسٹھ	چھیاسٹھ	سٹھ	اڑسٹھ	انہتر	ستر
71	72	73	74	75	76	77	78	79	80
اکہتر	بہتر	تہتر	چوتہتر	پچہتر	چھہتر	ستتر	اٹھتر	اناسی	اسی
81	82	83	84	85	86	87	88	89	90
اکاسی	بیاسی	تراسی	چوراسی	پچاسی	چھیاسی	ستاسی	اٹھاسی	نواسی	نوسے
91	92	93	94	95	96	97	98	99	100
اکانوے	بانوے	ترانوے	چورانوے	پچانوے	چھیانوے	ستانوے	اٹھانوے	ننانوے	سو



قومی ترانہ

پاک سرزمین شاد باد کشورِ حسین شاد باد
تو نشانِ عزمِ عالی شان ارضِ پاکِ ستان
مرکزِ یقینِ شاد باد
پاک سرزمین کا نظام قوتِ انختِ عوام
قوم، ملک، سلطنت پائیدہ، تابندہ باد
شاد باد منزلِ مراد
پرچمِ ستارہ و ہلال رہبرِ ترقی و کمال
ترجمانِ ماضی شانِ حال جانِ استقبال
سایہ خدائے ذوالجلال